


一、單一選擇題

1. 有關沙岸與岩岸的比較，下列哪一項正確？(A)沙岸多岬灣與灣澳 (B)岩岸的海岸線比較單調平直 (C)岩岸多沙洲、潟湖 (D)沙岸的海底比較平淺。

2. 右圖為台灣澎湖著名的地形景觀『柱狀玄武岩』，請問此景觀主要形成的原因為何？



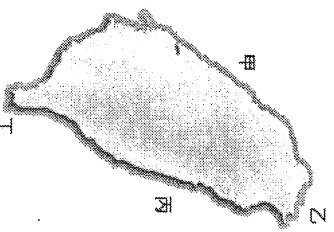
- (A)板塊運動 (B)火山作用  
(C)海水侵蝕 (D)珊瑚礁遺跡

3. 臺灣何處的降雨類型屬於「降水集中夏季，乾溼最為分明」？

- (A)臺灣東部 (B)臺灣中部  
(C)臺灣南部 (D)臺灣北部。

4. 臺灣多屬熱帶季風與副熱帶季風氣候，主要受到下列哪個因素影響？ (A)洋流 (B)地形 (C)緯度 (D)降水量。

5. 右圖為台灣海岸分布圖，請問野柳地質公園所呈現的特殊地形，如：女王頭、仙女鞋等，是在右圖的哪一部分海岸呢？

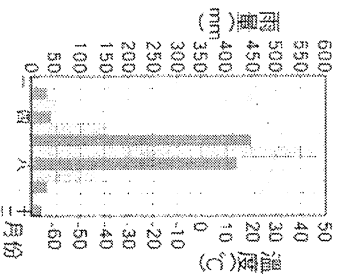


- (A)甲 (B)乙  
(C)丙 (D)丁

6. 在土地地理課時，老師針對海岸的課程進行學生分組討論，以下四位學生對彰化縣自然環境的敘述，何者錯誤？

- (A)心儀：海邊有許多蚵架及沙洲。  
(B)嘉慶：位於北迴歸線的北方。  
(C)姚姚：因迎西南季風所以冬季陰雨綿綿。  
(D)大春：位置屬於副熱帶季風氣候帶。

7. 右圖為台灣某都市的氣候圖，請依所學的地理知識判斷，此都市最可能位於臺灣的哪一個區域？



- (A)北部 (B)中部  
(C)南部 (D)東部。

8. 關於臺灣因氣候所造成的災害，下列何者錯誤？

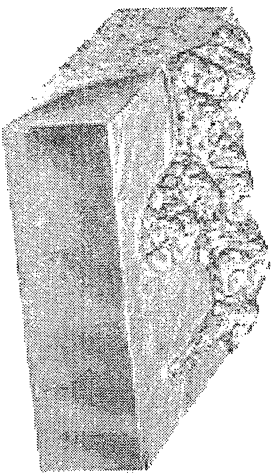
- (A)嘉南平原和高屏地區夏季常有旱災發生。  
(B)冬天因大陸高壓氣候團的南下，使得農作物凍死。  
(C)颱風所帶來的大量豪雨，經常引起災害。  
(D)梅雨季節的遲來甚至不來，會造成台灣地區用水短缺。

9. 龜山島的形成原因，與下列何者相同？

- (A)釣魚台列嶼 (B)太平島 (C)金門列嶼 (D)琉球嶼

10. 臺灣哪一港口是依據下圖中的地形特色興建而成？

- (A)花蓮港 (B)基隆港 (C)高雄港 (D)臺中港。



11. 玉山和嘉義市均在北迴歸線附近，但是兩地的氣溫有明顯的差異，這種現象是下列哪一個因素造成的？

- (A)季風 (B)緯度 (C)地形 (D)洋流

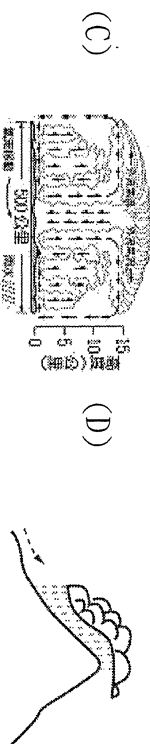
12. 新聞報導：「受到颱風的影響，中央氣象局針對全台發布豪雨特報，提醒低窪地區民眾必須嚴防淹水，山區嚴防土石流等災情。」上述氣象報導最可能出現哪一月份？

- (A)12月 (B)3月 (C)6月 (D)9月

13. 老一輩時常在說的諺語有時跟氣候有所關連，以下此諺語：「西北雨，落不過田埂」所敘述是哪一種降水類型？



- (A) (B)

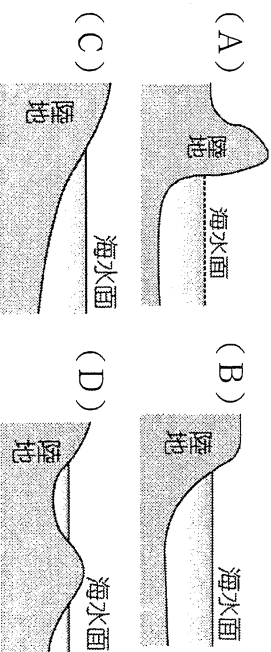


- (C) (D)

14. 雲林北港與彰化鹿港是臺灣早期的重要港口，現已沒落，請問這二者是位於哪一種類型的海岸地形？

- (A)河口的沙質海岸  
(B)珊瑚礁海岸  
(C)岬灣海岸  
(D)斷層海岸。

15. 海岸的特性影響其利用甚為明顯，如果要設立大型漁船進出的港口，則下列哪一個海岸地形最為合適？



16. 島嶼依形成原因可分成數種類型。下列哪組選項的島嶼類型完全相同？

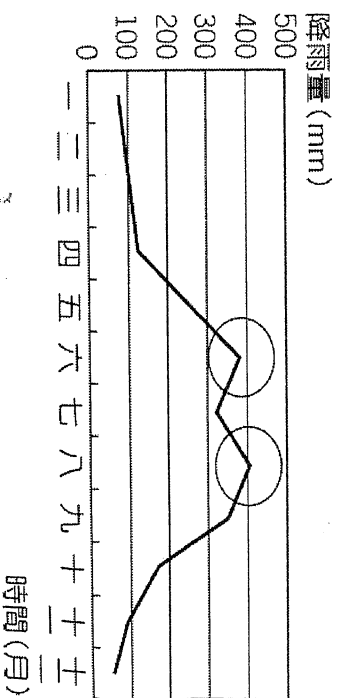
- (A)金門列嶼、太平島 (B)龜山島、馬祖列嶼  
(C)東沙島、綠島 (D)澎湖群島、蘭嶼

17. 綠島的朝日溫泉，泉水自海岸邊的礁石湧出，形成位於海裡的露天溫泉浴場。請問：海底溫泉的成因最可能是下列何者？

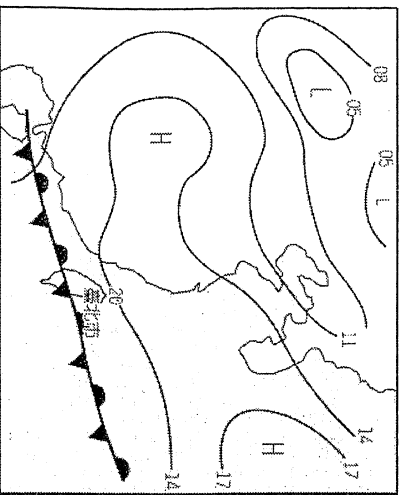
- (A)珊瑚礁廣布 (B)黑潮暖流經過  
(C)大陸棚廣大 (D)位於板塊接觸帶上

18. 下圖是臺灣某區每月平均降水量資料，造成第一次降水高峰期的降水型態應屬於下列何種？

- (A)地形雨 (B)鋒面雨 (C)對流雨 (D)颱風雨



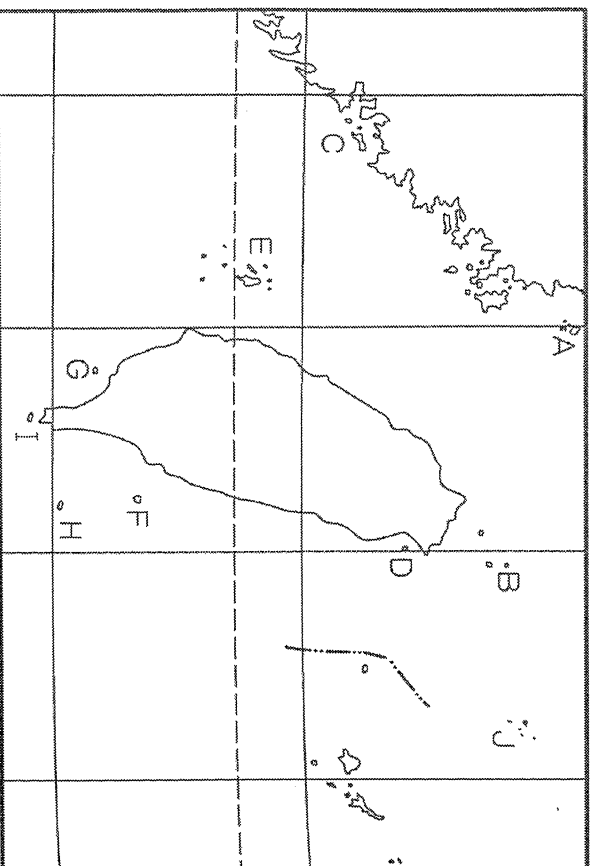
19. 一年之內最熱月均溫減去最冷月均溫的數值，是指下列何種名詞？  
 (A) 月溫差 (B) 年溫差 (C) 日溫差 (D) 年均溫
20. 若方向標指向「東南」，可看出此時的風向是如何？  
 (A) 西南風 (B) 東北風 (C) 東南風 (D) 西北風
21. 海岸可分為沙岸與岩岸，下列何種不是岩岸常見的景觀？  
 (A) 養殖漁業魚塭遍布 (B) 擁有天然良港  
 (C) 高山深海相鄰、斷崖遍布 (D) 適合發展海運與漁業
22. 蘇花公路因連日大雨，沿路上石崩落，造成遊客傷亡人數眾多。請問蘇花公路沿途海岸的景觀何者正確？  
 (A) 岬角與海灣相間，海岸線曲折  
 (B) 珊瑚礁廣佈，生態豐富  
 (C) 懸崖峭壁，海岸線陡直  
 (D) 沙灘廣闊，海岸線平直單調
23. 政府擬在某處興建水庫，以因應當地降雨季節分配不均的問題。請問：該水庫最有可能是為了解決何地的缺水問題？  
 (A) 宜蘭平原 (B) 臺北盆地  
 (C) 花東縱谷平原 (D) 嘉南平原
24. 下圖為臺灣六月初的地面天氣圖。由圖中資料判斷，此時臺灣地區最可能出現下列何種降雨類型？  
 (A) 地形雨 (B) 鋒面雨 (C) 颱風雨 (D) 對流雨



25. 以下對於天氣因素定義的敘述，何者正確？  
 (A) 氣壓：指大氣重量所造成的壓力  
 (B) 風：空氣由低氣壓向高氣壓流動  
 (C) 氣溫：緯度越低，氣溫越低  
 (D) 降水：指降水量的多寡，以公升為單位

## 二、整合題組題

◎下圖為台灣離島分布圖，請回答下列問題：



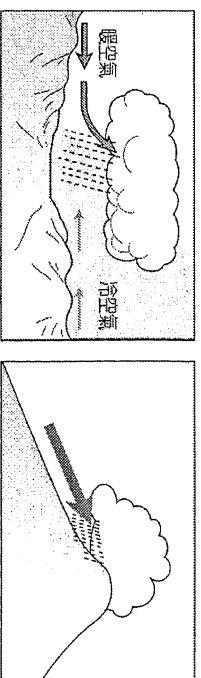
26. 下列哪些島嶼的形成與陸地下沉或海面上升有關係？

- (A) HC (B) EI (C) AC (D) BD
27. 311 日本大地震所引起的核能危機震驚全世界，而在台灣蘭嶼所存放的核廢棄儲存池，也成了關注的焦點。請問：此島嶼位在何處？  
 (A) G (B) I (C) F (D) H
28. 請問以下哪一座島嶼因領土主權問題，時常爆發台灣、中國及日本爭取的地方？  
 (A) J (B) B (C) D (D) A

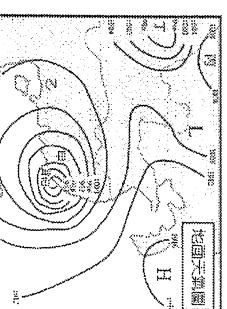

29. 下列哪一座島嶼擁有雙心石滬景點，是天然捕魚與象徵愛情的島嶼？  
 (A) F (B) E (C) G (D) C

30. D 離島的形成原因為何？  
 (A) 泥沙被海浪帶來堆積 (B) 地殼擠壓隆起  
 (C) 海水上升或陸地下沉 (D) 火山噴發，熔岩冷卻

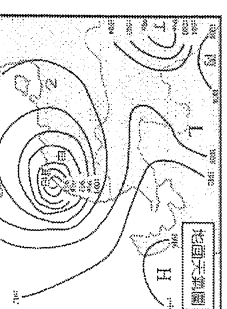
◎下圖為四種降雨的類型示意圖。請問：



甲

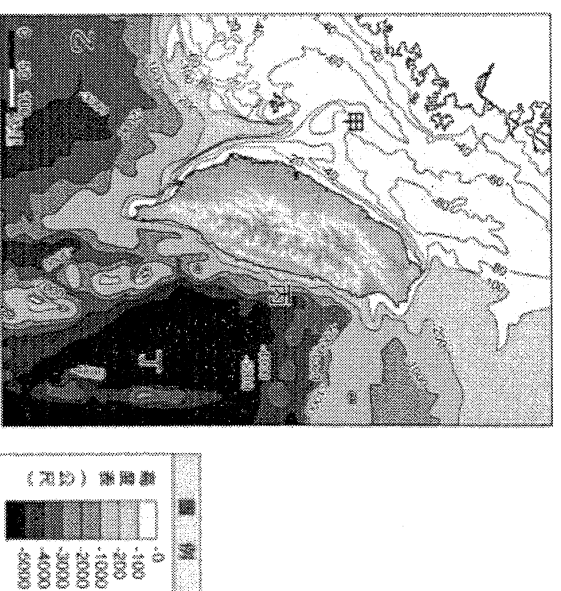


乙



31. 雯婷有一天和朋友約出去逛街，外頭原先太陽很大，但在吃完午餐沒多久，就被一場大雨淋成落湯雞而敗興回家。請問：上文這場大雨的降雨型態為何？  
 (A) 甲 (B) 乙 (C) 丙 (D) 丁
32. 心瑜決定在清明節過後和朋友一起參加環島之旅，請問他們這時候會遇到的降雨類型為何？  
 (A) 甲 (B) 乙 (C) 丙 (D) 丁
33. 基隆冬天受東北季風影響，雨量多，有雨都之稱。請問此種降雨屬於哪一種降雨類型？  
 (A) 甲 (B) 乙 (C) 丙 (D) 丁

◎下圖是臺灣附近海域的等深線圖，請依據此圖回答下列問題：



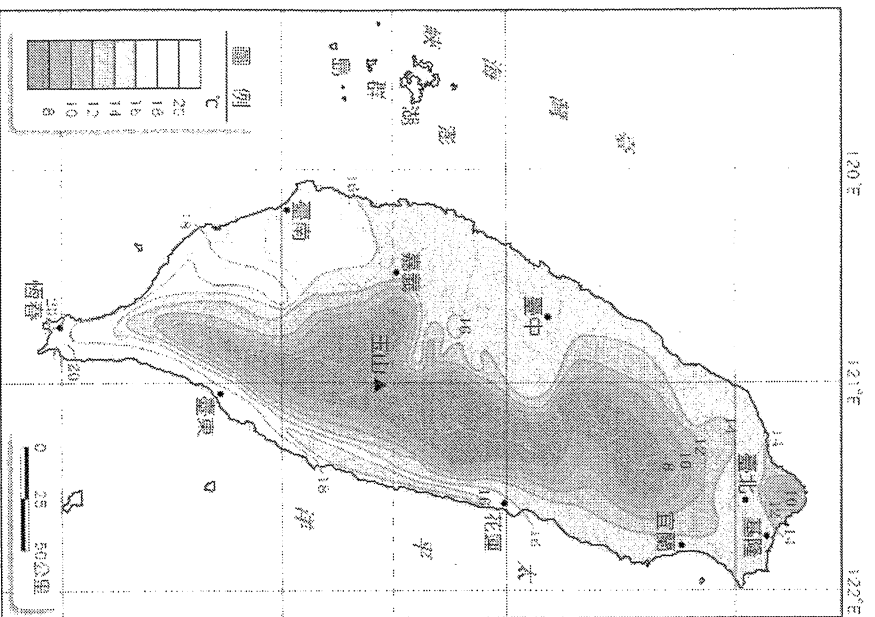
34. 臺灣四面環海，請問哪一側的海域水深較淺？  
 (A) 東側 (B) 西側 (C) 北側 (D) 南側

35. 甲、乙、丙、丁四個區域，哪一區較容易出現下面照片所呈現的地形？

- (A) 甲 (B) 乙 (C) 丙 (D) 丁



◎下圖為臺灣某月份的等溫線分布圖，請依圖中資料回答問題：



36. 圖中所呈現的數據，最可能出現在下列哪一個季節？

- (A) 春季 (B) 夏季 (C) 秋季 (D) 冬季

37. 影響該月份等溫線分布的主要因素為何？(甲)地形

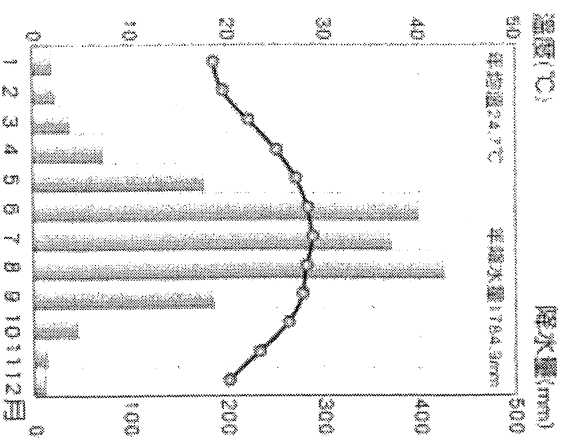
- (乙) 緯度 (丙) 颱風 (丁) 梅雨

- (A) 甲乙 (B) 甲丙 (C) 乙丙 (D) 乙丁

38. 圖中可看出的恆春氣溫大約高於基隆5度，此現象主要是受到下列何項因素影響？

- (A) 地勢 (B) 緯度 (C) 季風 (D) 洋流

◎下圖為某地的氣候圖，請依圖中資料回答問題：



39. 依你所學的地理知識判斷，上圖所顯示的資料，最有可能是代表台灣哪一個都市氣候？

- (A) 台東 (B) 宜蘭 (C) 屏東 (D) 基隆

40. 該都市的年溫差大約為攝氏多少度？

- (A) 5°C (B) 7°C (C) 10°C (D) 13°C

明倫國民中學 106 學年度第一學期第二次段考一年級地理科試題解答

1	2	3	4	5	6	7	8	9	10
D	B	C	C	B	C	C	A	A	B
11	12	13	14	15	16	17	18	19	20
C	D	B	A	B	D	D	B	B	C
21	22	23	24	25	26	27	28	29	30
A	C	D	B	A	C	D	A	B	D
31	32	33	34	35	36	37	38	39	40
C	A	B	B	C	D	A	B	C	C