

一、單一選擇題

- ( ) 位於新疆維吾爾自治區的塔里木盆地，屬於下列哪種氣候類型？ (A) 高地氣候 (B) 溫帶草原氣候 (C) 溫帶沙漠氣候 (D) 溫帶季風氣候。
- ( ) 「在油價飆漲的時代，各國紛紛尋求替代能源，其中利用太陽能發電是發展比較成熟的技術，但是也有其限制，必須在日照充足、雲層阻擋少、場地空曠的地方設置發電廠。」僅考慮上述的自然條件，若要設置一大型太陽能發電廠，下列何地最適合？ (A) 沙漠地區 (B) 針葉林區 (C) 兩極地區 (D) 熱帶雨林區。
- ( ) 「……而我們總是要一唱再唱，想著草原千里閃著金光；……想著黃河岸啊陰山旁；英雄騎馬壯，騎馬榮歸……。」請問：文中描述的地區，年雨量的範圍最可能為下列何者？ (A) 大於 750 毫米 (B) 介於 500 至 750 毫米 (C) 介於 250 至 500 毫米 (D) 小於 250 毫米。
- ( ) 內蒙古的降雨分布情況受到地形和距海遠近影響而各地不同，其主要分布趨勢為下列何者？ (A) 東多西少 (B) 西多東少 (C) 南多北少 (D) 北多南少。
- ( ) 新疆的工業發展和哪些條件的改善關係最大？ (甲) 原料 (乙) 資金 (丙) 交通 (丁) 市場 (A) 甲乙 (B) 甲丙 (C) 乙丁 (D) 丙丁。
- ( ) 歐亞大陸為世界最為廣大的陸塊，其中中心點正好位於中國的哪一個地區？ (A) 青藏高原 (B) 河西走廊 (C) 內蒙古高原 (D) 新疆。
- ( ) 喜名在電視上見到河西走廊的旅遊廣告，令她大感興趣。請問：該地區目前吸引觀光客的主要特色為哪些？ (甲) 水鄉澤國 (乙) 大漠風光 (丙) 歷史古蹟 (丁) 時尚風華 (A) 甲乙 (B) 丙丁 (C) 甲丁 (D) 乙丙。
- ( ) 「由於當地居民的宗教信仰以及血統，皆與中亞游牧民族較為接近，和中國傳統漢人社會的差異反而較大，此地一直存在著獨立建國的聲音。中國對此十分重視，於是積極改善當地交通及基礎設施，加速當地石油、煤礦等資源的開發。」上文是在描述中國哪一地區？ (A) 西藏自治區 (B) 內蒙古自治區 (C) 寧夏自治區 (D) 新疆維吾爾自治區。

- ( ) 中國西部地區傳統以畜牧業為主，近年來則逐漸發展工礦業。請問：下列哪一個地區由於發現鐵礦，因此積極發展鋼鐵工業？ (A) 內蒙古高原 (B) 青藏高原 (C) 河西走廊 (D) 新疆盆地。
- ( ) 「黃河百害，唯富一套」，黃河對河套地區最重要的功能為下列何者？ (A) 提供豐富的漁產 (B) 蘊藏充沛的水力 (C) 主要的河運交通 (D) 供應農業的水源。

- ( ) 西藏自治區農業不盛，但藏南縱谷因為何種因素影響，故能種植青稞等作物？ (A) 土壤 (B) 緯度 (C) 季風 (D) 高度。
- ( ) 雨林分布的面積大小近年來已成為地球氣候變化的重要影響因素。請問：該植物分布地區的氣候條件為下列何者？ (A) 高溫多雨 (B) 寒冷乾燥 (C) 低溫溼潤 (D) 炎熱乾燥。


- ( ) 「這裡人煙稀少，其中一個原因是盧安瓦河一年一度的氾濫。每年 10 月之後的雨季期間，黑壓壓的雷雨雲開始聚積，滂沱大雨如急流般從天而降，洗去草與樹上的塵埃；暴漲的河水會重新改變土地的面貌，野生動物也隨著乾溼季節的更替而遷移。」上文所述的地區，最可能是位於下列何種氣候分區？ (A) 北半球熱帶季風氣候 (B) 北半球溫帶沙漠氣候 (C) 南半球熱帶莽原氣候 (D) 南半球地中海型氣候。

- ( ) 中國的內蒙古地區及青藏高原同位於邊疆位置。下列有關這兩者的敘述，何者錯誤？ (A) 甲 (B) 乙 (C) 丙 (D) 丁。


	內蒙古地區	青藏高原
(甲) 地形	高原	高原
(乙) 氣候	乾燥氣候	高地氣候
(丙) 少數民族	蒙古族	藏族
(丁) 畜牧活動	游牧	放牧

- ( ) 藏南縱谷的氣候分布，隨著什麼因素影響而產生垂直變化？ (A) 地形 (B) 緯度 (C) 距海遠近 (D) 盛行風向。

16. ( ) 高緯度地區的年均溫通常較低緯度地區為低，這和下列哪一項因素的關係最大？  
 (A) 日照時間 (B) 日照角度  
 (C) 季風方向 (D) 季風變化。
17. ( ) 新疆位於中國西部地區，早期因為交通不便限制了工業的發展。請問：今日哪一種交通方式帶動了當地的工業發展？  
 (A) 鐵路 (B) 公路  
 (C) 河運 (D) 航空。
18. ( ) 法國的足球先生席丹到亞洲遊玩，對附圖中這種居住型態十分好奇。請問：影響這種建築型態最主要的原因為何？  
 (A) 氣候溼熱 (B) 面積狹小  
 (C) 地形崎嶇 (D) 針葉林多。



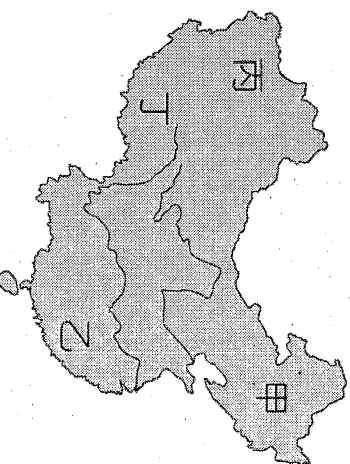
19. ( ) 老王經營中國西部地區的駱駝商隊，他在行經河西走廊時，最可能在當地的哪一種市鎮休息及進行交易買賣？  
 (A) 綠洲都市 (B) 礦產都市  
 (C) 河運都市 (D) 工業都市。
20. ( ) 內蒙古位於長城以北、大興安嶺以西，該地區的地形主體為下列何者？  
 (A) 高原 (B) 山地  
 (C) 平原 (D) 盆地。
21. ( ) 附圖是13世紀羅馬人所繪的古地圖，其中T字形部分為海洋或河流，其餘部分為三大陸塊。根據當時人們對世界的認知，甲地區最可能是下列哪一個陸塊？  
 (A) 美洲 (B) 非洲  
 (C) 澳洲 (D) 南極洲。



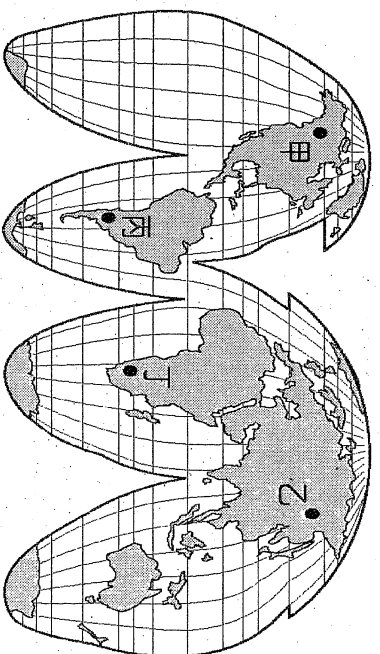
22. ( ) 新疆為少數民族自治區，該地居民多以信奉哪一種宗教為主？  
 (A) 佛教 (B) 道教  
 (C) 基督教 (D) 伊斯蘭教。
23. ( ) 北極海為一個被周圍廣大陸地所包圍住的海域，近年來因交通改善，故航運價值逐漸重要。下列哪一個地區離北極海的航運路線

- 最遠，因此受到的影響較小？  
 (A) 亞洲 (B) 澳洲  
 (C) 北美洲 (D) 歐洲。
24. ( ) 阿甘想從大西洋岸走到太平洋岸，完成看到兩大洋的願望。請問：若只考慮下列地區與周圍海洋的關係，阿甘的願望在哪一個地區無法實現？  
 (A) 中國 (B) 美國  
 (C) 加拿大 (D) 南極洲。

25. ( ) 附圖中哪一個地區的綠洲農業最為發達，成為當地特殊的人文景觀？  
 (A) 甲 (B) 乙 (C) 丙 (D) 丁。



26. ( ) 目前世界人口分布最密集的地區位於下列哪一個地方？  
 (A) 歐洲沿海 (B) 亞洲東部  
 (C) 美洲中部 (D) 澳洲西部。
27. ( ) 南極洲除少數科學家進駐外，幾乎無人居住，主要原因為何？  
 (A) 資源缺乏 (B) 經濟發展差  
 (C) 政治局勢不穩定 (D) 自然環境不宜人居。
28. ( ) 各地區的建築物，通常反映出當地環境的特色。請問：歐洲建築由地中海地區的白色平頂房屋，向北逐漸變成尖端傾斜屋舍，最主要的是受到下列哪一種因素的影響？  
 (A) 人口多寡 (B) 氣候變化 (C) 產業活動 (D) 建材來源。
29. ( ) 地球以本初經線為界，依其位置而分為東、西兩個半球。請問：下列哪一個大陸全位於西半球？(A) 非洲 (B) 歐洲  
 (C) 大洋洲 (D) 中南美洲。
30. ( ) 附圖為世界全圖。請問：七月時，附圖中哪兩個城市的季節是夏季？(A) 甲乙 (B) 甲丁 (C) 乙丙 (D) 丙丁。



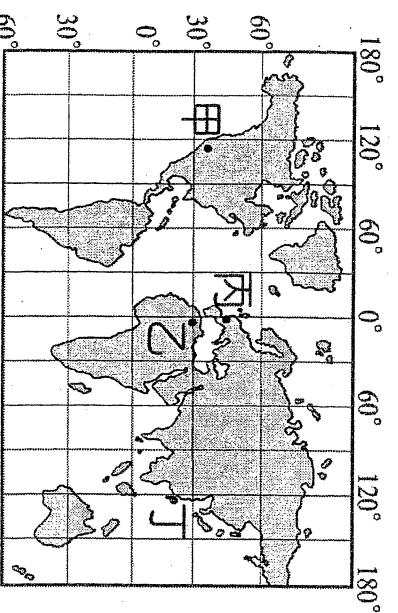
姓名： \_\_\_\_\_

31. ( ) 「該地區主要面積分布於東半球，南端的島嶼橫跨赤道，為全球人口最多、面積最廣大的地區，因此形成多樣化的區域特色。」請問：上文所述的是下列哪一洲？  
 (A)北美洲 (B)歐洲  
 (C)亞洲 (D)非洲。
32. ( ) 下列哪一種氣候區的年、日溫差均大，對當地居民生活影響明顯？ (A)溫帶季風氣候 (B)高地氣候 (C)熱帶季風氣候 (D)溫帶沙漠氣候。
33. ( ) 世界上最高的山脈為喜馬拉雅山，有 100 多座山峰在海拔 7,000 公尺以上，其成因主要為何？ (A)板塊活動 (B)河川堆積 (C)風力作用 (D)火山噴發。

二題組題

荷蘭藝術家所創造的黃色小鴨巡迴世界各主要港口，希望傳達愛與和平的希望，在各地都掀起了風潮，可說是當代最成功的現代藝術展覽之一。在結束臺灣的行程後，黃色小鴨緊接著在「高桅帆船節」中於美國洛杉磯展出，這也是黃色小鴨首度在美國西岸展出。請問：

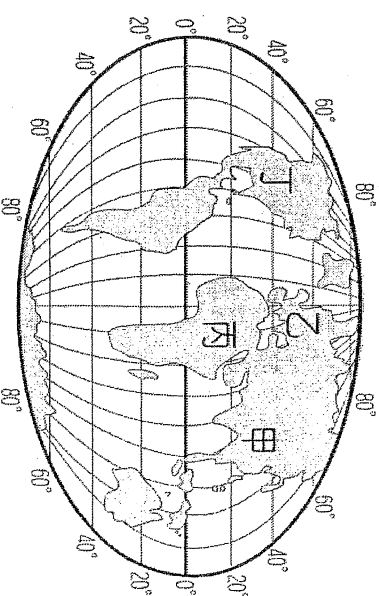
34. ( ) 黃色小鴨的創作來自於荷蘭，該國的航運業相當發達，當地著名的鹿特丹港緊鄰哪一個海洋？ (A)太平洋 (B)大西洋 (C)印度洋 (D)北極海。
35. ( ) 黃色小鴨在 2007 年開始巡迴世界展出時，海外首站就來到了世界陸半球中心的國家。當時展出的地點位於圖中何處？  
 (A)甲 (B)乙 (C)丙 (D)丁。



36. ( ) 承上題，黃色小鴨在當地展出時，其他國家民眾若想前往觀賞，下列哪一個國家離展覽地點最遠？ (A)南非 (B)阿根廷 (C)紐西蘭 (D)中國。
37. ( ) 黃色小鴨在臺灣結束展覽後，接著到北美西部的洛杉磯展覽，若黃色小鴨要原裝前往展出，那必須橫渡哪一個海洋才能抵達？  
 (A)太平洋 (B)大西洋  
 (C)印度洋 (D)北極海。

1492 年哥倫布發現新大陸後，開啓了新世界的視野。1519 年麥哲倫在西班牙國王的資助下，率領一支兩百多人組成的探險隊，從歐洲的西班牙出發，進行一項當時被認為不可能的「環球航行」。當麥哲倫率領船隊渡過大西洋後，先到達南美洲的火地島，然後穿過著名的麥哲倫海峽進入了太平洋。雖然麥哲倫本人在 1521 年菲律賓群島的部族衝突中喪命，然而其船員卻繼承他的意志，成功完成人類第一次的環球航行。請問：

38. ( ) 由上文可知，麥哲倫的「環球航行」是由附圖中的哪一個大陸出發？  
 (A)甲 (B)乙 (C)丙 (D)丁。



39. ( ) 當麥哲倫由西班牙出發後，船隊首先穿越哪一個海洋，來到了南美洲的火地島？  
 (A)大西洋 (B)太平洋  
 (C)印度洋 (D)北極海。
40. ( ) 承上題，在這段航程路線中，麥哲倫的船隊應是朝下列哪一個方向前進？  
 (A)西北方 (B)東北方  
 (C)西南方 (D)東南方。

彰化縣立明倫國中 104 學年度第二學期第 2 次段考  
二年級地理科試卷答案

1-5	C	A	C	A	B
6-10	D	D	D	A	D
11-15	C	A	C	D	A
16-20	B	A	A	A	A
21-25	B	D	B	A	C
26-30	B	D	B	<del>X</del> D	A
31-35	C	D	A	B	C
36-40	C	A	B	A	C