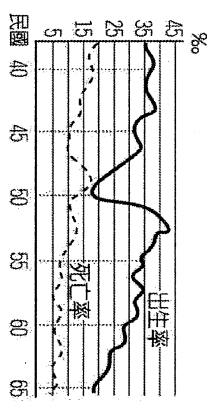






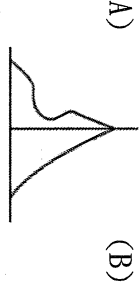

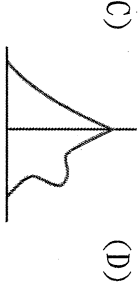

一、單一選擇題

- 身為多元化社會的一分子，在與不同文化背景的人相處時，應該要有下列何種態度？  
(A)凸顯自己文化的優異之處，要其他文化學習與模仿  
(B)全盤接受對方的文化，放棄本身的文化  
(C)視對方為異類，避免接觸，以免發生衝突  
(D)須先了解彼此的社會規範，以免產生誤會與衝突。
- 明倫國總統候選人提出：「夫妻合請兩年育嬰假，有工作者領六成薪，沒工作者領5,000元津貼，讓婦女能安心撫養下一代。」請問：這項政策的推行對於人口組成會有什麼影響？  
(A)死亡率下降 (B)出生率上升  
(C)性別比提高 (D)扶養比下降
- 右圖為臺灣在民國40~65年的人口出生率和死亡率的曲線變化圖。根據圖中資料判斷，下列何時的人口自然增加率最低？  
  
(A)民國40年 (B)民國45年 (C)民國50年 (D)民國60年
- 家住澎湖的雅涵，剛考上台北某大學，決定先利用暑假到台北租房打工賺學費，在人口遷移的分類上，應屬於下列哪一種分類？  
(A)暫時性國內移動 (B)暫時性國外移動  
(C)永久性國內移動 (D)永久性國外移動
- 當一地的人口密度遠較另一地稠密時，代表著：(甲)居住與活動的空間較為擁擠 (乙)人口數較多 (丙)土地面積較小 (丁)每人所分配的土地資源較少。請問：上述何者正確？  
(A)甲、丙 (B)乙、丙 (C)甲、丁 (D)乙、丁
- 下表是臺閩地區人口統計的部分資料，根據表示資料內容判斷，為因應此種社會變遷趨勢，政府應推行下列哪一政策呢？  
(A)重視優生保健，藉以提高人口素質  
(B)規範移民業務，加強協助外籍配偶  
(C)提高總生育率，促使人口合理成長  
(D)實施區域計畫，誘導人口均衡發展。

項 目	八十四年	八十七年	九十年
總生育率(個)	1.78	1.47	1.34
0~14歲人口比率(%)	23.8	22.0	20.4
65歲以上人口比率(%)	7.6	8.3	9.0

- 下列是上海世界博覽會台灣館主題曲的部分內容：「……美濃紙傘怎麼摺，三義木雕怎麼刻，這塊土地有很多很多的選擇，仔細看著八家將的妝獨特……。」上訴歌詞內容最主要在描述台灣的哪一項特色？  
(A)宗教信仰多元 (B)國際交流頻繁  
(C)文化資產豐富 (D)經貿活動興盛
- 臺灣有很多新住民，目前人數已超過54萬人。請問：這些新住民主要來自下列哪一個國家？  
(A)泰國 (B)越南 (C)印尼 (D)中國

- 飲食文化與當地的氣候、作物型態息息相關，下列何者的飲食型態與原鄉作物最有關連？  
(A)閩南傳統小吃多米做的食物  
(B)客家傳統小吃較重油、重鹹  
(C)泰國料理較多酸辣類的食物  
(D)傳統原住民料理較少油炸類
- 保潔希望開設一個便利商店，人潮有如「向左走，向右走，不小心就會撞到頭」的地方最容易賺錢，選項中何處開設最易達成目標？(●=1,000人)  
(A)  (B)  (C)  (D) 

- 臺灣在清朝統治初期受到「渡臺禁令」政策的影響，人口結構有失衡的現象。請問當時的人口金字塔圖形，最可能是下列那一幅示意圖？  
(A)  (B)   
(C)  (D) 

- 花媽一家人想要搬家，家中四個人各有不同的意見。請問：花媽一家人所描述的應屬於：  
(A)都市拉力、鄉村推力 (B)都市推力、鄉村拉力  
(C)都市拉力、鄉村推力 (D)都市推力、鄉村拉力。

- ◆花媽：都市的房子太貴了，根本買不起。
- ◆橘子：鄉下沒有可以逛街的地方，要買東西很不方便。
- ◆花爸：搬到鄉下我會找不到工作。
- ◆柚子：都市的空氣好糟，讓我的氣喘都好不了。

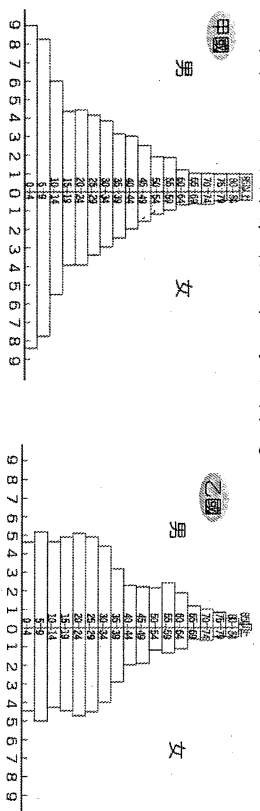
- 傑太全家上個月從恆春老家搬來臺北，找工作的時候認識了從印尼來的朋友吉尼，吉尼在臺灣娶了一位老婆美儀，最近剛剛生下了雙胞胎，老婆美儀暫時先回雲林娘家作月子，趁週末時，吉尼邀請傑太一起陪他到雲林探望他的老婆與小孩……」請根據上述文字選出下列符合人口遷移的正確敘述？  
(A)文中沒有提到國際性遷移的例子  
(B)傑太到雲林的探望屬於社會增加  
(C)美儀生出的雙胞胎屬於新住民  
(D)恆春對傑太而言是具有推力的地區

- 小陳到臺灣鄉下地理考察時，發現庄頭、庄尾都有土地公，數量龐大，是當地居民重要的信仰。請問：這是屬於何種人的宗教信仰？  
(A)客家人 (B)閩南人 (C)原住民族 (D)穆斯林

- 宥成踏查臺北迪化街時，看到許多不同的建築形式，哪一種建築是因應夏季多雨特性而形成？  
(A)石頭屋 (B)騎樓 (C)西式洋樓 (D)高樓大廈
- 臺灣的原住民族可分為平埔族群和高山族。其中有關平埔族群的敘述，下列哪一項錯誤？  
(A)生活在西部平原、丘陵一帶 (B)其漢化的時間較高  
(C)移入臺灣的時間在漢人之前 (D)大約可分為泰雅、布農等十六族

17. 請由下列的人口金字塔圖中，比較這兩個國家在人口結構上的差異，並選出下列那一項為正確的敘述？

- (A) 甲國出生率較高  
 (B) 甲國人力資源較充沛  
 (C) 乙國幼年人口比率較多  
 (D) 乙國的醫療衛生較為不發達



18. 從人口金字塔圖中，無法得到何項資訊？

- (A) 壯年人口比例 (B) 人民教育程度  
 (C) 性別比 (D) 扶養比。

19. 目前因婚姻關係來臺灣的新移民已超過 50 萬人，政府透過許多方式協助他們適應臺灣社會，例如建置數位資訊平臺，以多國語文的網頁介面，提供數位學習及文化交流的空間。上述多國語文最可能涵括下列何者？

- (A) 俄羅斯文、德文 (B) 越南文、印尼文  
 (C) 阿拉伯文、土耳其文 (D) 西班牙文、葡萄牙文  
 20. 某個語系包含有 1200 種以上的語言，人口多數居住在東南亞地區，分布區域東達復活節島，西至馬達加斯加島，南到紐西蘭，最北端則達臺灣。請問：上述的語系應為下列何者？

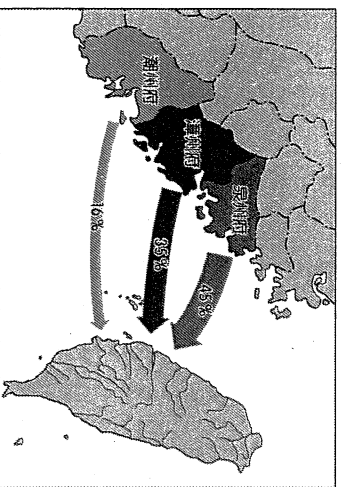
- (A) 印歐語系 (B) 拉丁語系  
 (C) 南島語系 (D) 日耳曼語系

21. 臺灣近年來實施的家庭計畫、全民健保，可能會使社會面臨何種狀況？

- (A) 出生率降低、死亡率下降  
 (B) 出生率降低，死亡率升高  
 (C) 出生率升高、死亡率降低  
 (D) 出生率升高、死亡率升高

22. 多元文化來自於不同族群的生活特色，附圖為臺灣某時期的口移動示意圖，由圖判斷，會帶來哪些族群的文化特色？

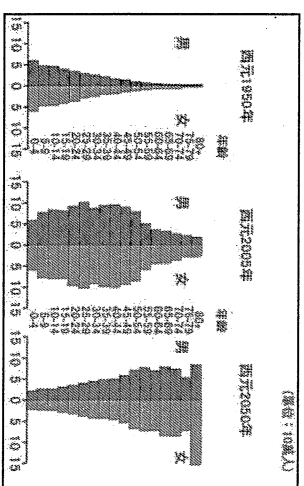
- (A) 平埔族群、高山族 (B) 閩南人、客家人  
 (C) 新住民、日本人 (D) 原住民族、平埔族群



23. 語言使用代表當地的日常生活，由於臺灣的地理位置影響，各族群在此交會，也形成獨特的用語。請問：常見的甜不辣、池上等用詞，主要融入哪一個族群的語言？

- (A) 西班牙人  
 (B) 荷蘭人  
 (C) 葡萄牙人  
 (D) 日本人

24. 附圖為臺灣人口金字塔變化圖。由圖中西元 2005 年到西元 2050 年的人口趨勢可知，臺灣的人口組成正面臨哪些問題？



- (A) 總人口數逐年減少  
 (B) 社會增加率大於自然增加率  
 (C) 扶養比日益攀升  
 (D) 人口增加率降低是因為死亡率高  
 25. 人口成長的原因包括「自然增加」與「社會增加」兩種類型。下列何者屬於「自然增加」？

- (A) 琴雯結婚後生下一雙兒女  
 (B) 中環從澎湖搬到台北找工作  
 (C) 承徽到日本開設食品工廠  
 (D) 菱吟到台中就讀台中女中

26. 行政院統計，到 2016 年為止，臺灣適婚年齡的男性比女性整整多了 60 萬人，婚配市場嚴重傾斜。而這種男多女少的情況指的是何種現象？

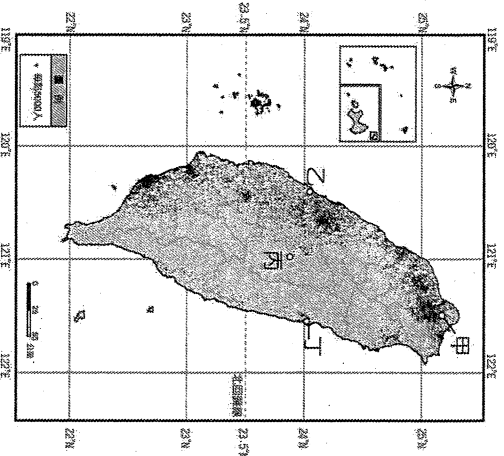
- (A) 臺灣人口成長快速 (B) 壯年人口扶養負擔重  
 (C) 醫療衛生水準提升 (D) 性別比例嚴重失衡

27. 根據統計，澳洲與台灣人口數相仿，都是 2300 多萬人，但澳洲人口密度卻不及台灣的 1/200。請問造成兩地人口密度懸殊的主要原因是什麼？

- (A) 台灣平均壽命較長 (B) 台灣人口分布不平均  
 (C) 澳洲生育率較低 (D) 澳洲國土面積較大

## 二、題組

◎附圖為呈現臺灣某人口資訊的地圖，請問：



28. 此種人口分布圖屬於下列哪一種統計圖？  
 (A) 圓餅圖 (B) 點子圖 (C) 柱狀圖 (D) 曲線圖。
29. 此種圖的目的是為了讓我們了解何種人口現象？  
 (A) 人口結構 (B) 人口素質  
 (C) 人口分布 (D) 人口增長。
30. 根據附圖，下列何者是台灣人口密度最低的地區？  
 (A) 台北市 (B) 新竹市 (C) 嘉義市 (D) 高雄市
31. 從圖中我們可以發現台灣西部人口遠比東部稠密許多。試問：造成台灣人口如此分布的主要原因不包括下列何者？  
 (A) 西部氣候較暖濕 (B) 西部經濟較發達  
 (C) 西部地勢較低平 (D) 西部交通便利

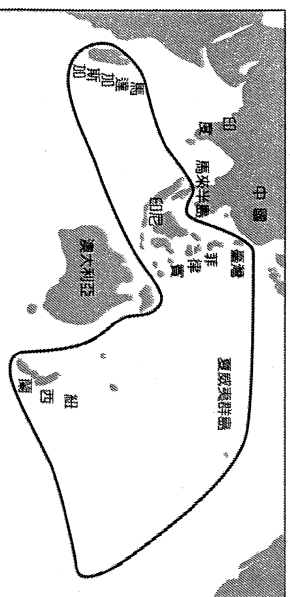
◎附表為民族人口變化的情況，請依表中資料回答以下問題：

人口總數	出生數	死亡數	移入數	移出數
1,000 萬人	8 萬人	4 萬人	22 萬人	9 萬人

32. 民族國當年的死亡率為多少？  
 (A) 4 % (B) 8 % (C) 9 % (D) 22 %。
33. 民族國當年的人口增加率為多少？  
 (A) 9 % (B) 12 % (C) 13 % (D) 17 %。
34. 該地區當年的社會增加率為多少？  
 (A) 12 % (B) 13 % (C) 18 % (D) 31 %。
35. 該地區當年的自然增加率為多少？  
 (A) 4 % (B) 8 % (C) 12 % (D) 31 %。

◎我國的原住民族文化事業基金會於2009年成立，至今已達十年的里程碑，在大家的努力下，規模不斷茁壯擴大，目前已成立「原住民族電視臺」、「Alian 96.3原住民族廣播電臺」和「原視界」等，涵蓋電視、廣播和書報雜誌等多種媒體，為保存其文化特色做出巨大的貢獻。請問：

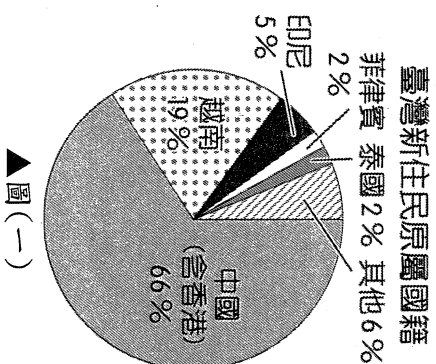
36. 我國由於族群眾多，因此各種不同文化於此匯集，形成多元文化的特色。根據內政部的統計資料顯示，各縣市原住民族人口以○○縣9萬2千人占16.7%最多，其次為臺東縣7萬9千人占14.3%。桃園市第三，為7萬人占12.6%居第三。請問：上文中○○縣最可能為下列何者？  
 (A) 嘉義縣 (B) 苗栗縣 (C) 彰化縣 (D) 花蓮縣。
37. 文化的傳播除了影音媒體外，還包括了語言與文字。若依我國的原住民族主要的溝通語言判斷，被歸納為南島語族。附圖為該語族的分布地區圖。請問：主要位於哪些海域之中？



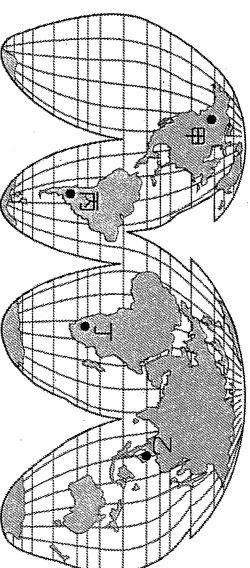
- (A) 太平洋、大西洋 (B) 太平洋、印度洋  
 (C) 大西洋、印度洋 (D) 北極海、太平洋。

◎我國近年來人口成長呈現停滯，部分縣市更因為區域發展的因素，出現衰退的現象，影響人口結構及組成。如南投縣目前人口已跌破五十萬，其中新住民人口卻占了一萬一千人，平均每百位居民便有2.2位是新住民，若再加上其家庭成員，人數更是可觀，也為當地的文化景觀注入新元素。請問：

38. 目前臺灣的新住民人數已較整個南投縣的人數多，全國總數大約為54萬餘人，其原屬國籍比例大致如圖(一)所示。請問：除了中國外，多來自於圖(二)中何處？  
 (A) 甲 (B) 乙 (C) 丙 (D) 丁



▲圖(一)



▲圖(二)

39. 南投縣近年來人口數量持續減少，大量外移造成其發展問題，如何留住居民便成為當地政府的首要之急。請問：造成這種現象的最可能因素為下列何者？  
 (A) 缺乏就業機會 (B) 觀光資源缺乏  
 (C) 土地面積狹小 (D) 颱風地震頻繁。
40. 南投縣政府表示，當地新住民是重要的人力資源，隨著新住民人口日益成長，成為南投縣發展的新動力。因此舉辦如臺語歌唱比賽，邀請越南、印尼、中國各地的新住民參與，融入南投縣的大家庭。請問：當地新住民從海外遷居至此，最主要的原因多為下列何者？  
 (A) 婚姻關係 (B) 工作就業  
 (C) 讀書就學 (D) 氣候優良。