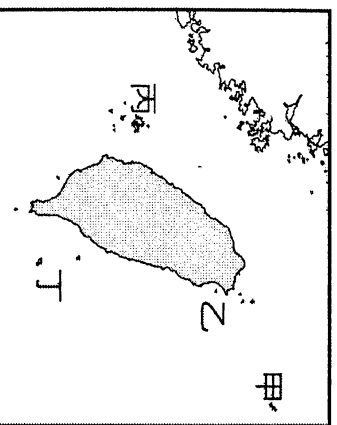


一、單選題：

- ( ) 1. 小雨一家早上 10:00 由臺北搭機前往香港 (114 哩)。迪士尼主題樂園玩，飛機飛行時間約 1 小時，小雨一家到達香港的時間會是在哪個時段？  
(A)9:00 (B)10:00 (C)11:00 (D)13:00
- ( ) 2. 現在要規劃行程，很多人都會使用 google map 來查詢目的地於何處。請問這種電子地圖有哪些傳統地圖沒有的優點？(甲)可知實際距離(乙)可自由縮放比例(丙)更新快速(丁)方位標示清楚  
(A)甲乙 (B)甲丁 (C)乙丙 (D)丙丁
- ( ) 3. 2010 年 9 月的釣魚臺海域中日撞船事件，使釣魚臺列嶼主權問題又浮上檯面。釣魚臺列嶼位在附圖中的哪個地區？

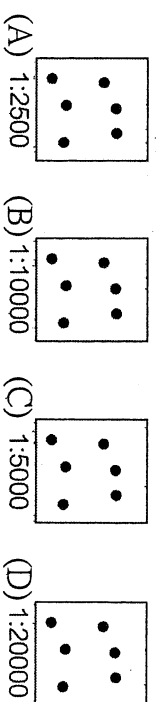


- (A)甲 (B)乙 (C)丙 (D)丁
- ( ) 4. 阿明在畢業旅行參觀了位於臺中霧峰的「九二一地震教育園區」後，對於大自然驚人的破壞力留下深刻的印象。回家後，阿明想要在網路上搜尋相關資料，他可以用下列哪個關鍵字進行搜尋？  
(A) 外營力 (B)內營力  
(C)侵蝕作用 (D)風化作用
- ( ) 5. 臺灣的高冷蔬菜新鮮味美，主要種植在哪個地形區上？  
(A)高原 (B)山地 (C)平原 (D)臺地
- ( ) 6. (甲)衛星影像圖(乙)航空照片圖(丙)地形剖面圖(丁)分層設色圖。以上哪種地圖類型最容易看出地形起伏？  
(A)甲 (B)乙 (C)丙 (D)丁
- ( ) 7. 《臺灣的地景百選》一書為農委會介紹臺灣地景資源及地景保育重要性，選出臺灣最具價值的百大地景所出的書。臺灣地形景觀多樣且豐富，是由於下列哪項因素所造成的？  
(A)有北回歸線通過 (B)位板塊交界地帶  
(C)位於海陸過渡帶 (D)河川堆積作用旺盛
- ( ) 8. 金門和馬祖形成的原因為何？  
(A)海底火山噴出岩漿堆積而成  
(B)沿海丘陵因海水上升而沒入海中而形成  
(C)海底珊瑚礁露出水面而形成  
(D)地殼變動，和大陸分離而形成
- ( ) 9. 冷暖氣團相遇後形成鋒面，鋒面通過會使一地的氣溫產生變化，並提高降雨機率。下列甲乙丙為三種鋒面符號，何項是正確的名稱排列？

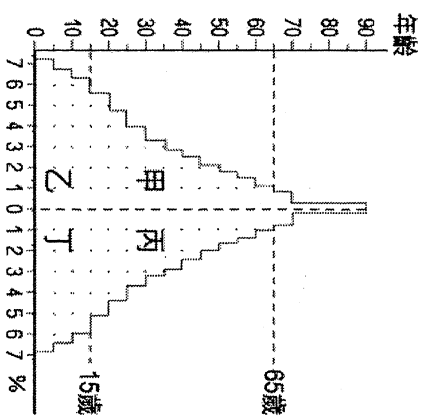


- (A)滯留鋒、冷鋒、暖鋒  
(B)冷鋒、暖鋒、滯留鋒  
(C)暖鋒、冷鋒、滯留鋒  
(D)滯留鋒、暖鋒、冷鋒
- ( ) 10. 新竹別稱「風城」，主要名產如米粉、貢丸、柿餅等的製作，皆與風有關，製作過程受到當地強

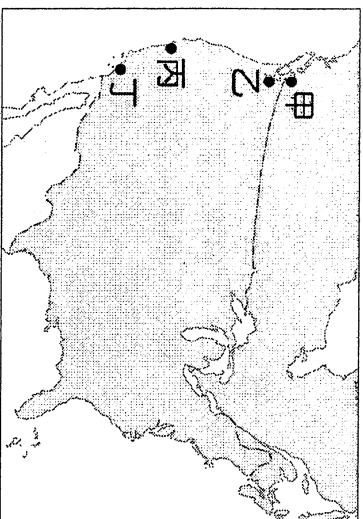
- 勁的季風風乾，而製作出遠近馳名的特產。冬季影響上述名產製作最主要的風向為下列何者？  
(A)東北季風 (B)西北季風  
(C)東南季風 (D)西南季風
- ( ) 11. 阿寶希望開設一個便利商店，當然人潮擁擠的地方最容易賺錢，附圖四個地點，何處開設最不易達成目標？(附圖中每一點代表 10,000 人)



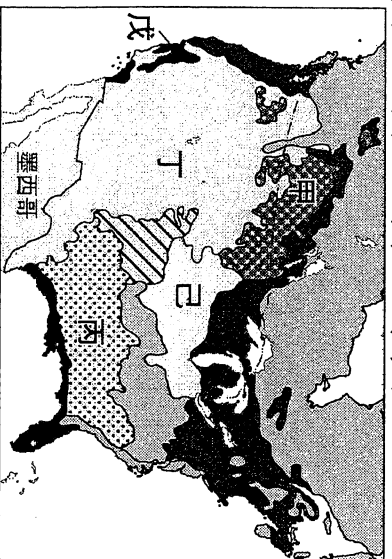
- ( ) 12. 附圖是某國人口金字塔圖。小漢(男)今年 64 歲，他最有可能在人口金字塔的哪個位置？



- (A)甲 (B)乙 (C)丙 (D)丁
- ( ) 13. 一般而言，男女性別比應趨於 100，若一地的性別為 107，所代表的意義為下列何者？  
(A)每 107 個男生對應 1 個女生，所以男生比較多  
(B)每 107 個女生對應 1 個男生，所以女生比較多  
(C)每 107 個女生對應 100 個男生，所以女生比較多  
(D)每 107 個男生對應 100 個女生，所以男生比較多
- ( ) 14. 南歐有三個半島：(甲)巴爾幹半島 (乙)伊比利半島 (丙)義大利半島。若地中海郵輪之行是從土耳其向大西洋出發，則由東而西經過的半島順序為何？  
(A)甲乙丙 (B)甲丙乙 (C)乙甲丙 (D)乙丙甲。
- ( ) 15. 「人類至少在兩千年前已知道利用一種盛產於西班牙、葡萄牙、義大利和北非的作物，榨取其果核中的油脂成為食用油，這種油近年來因富含不飽和脂肪酸而成為世人新寵。」依氣候條件判斷，引文中所指的食用油應是下列何者？  
(A)橄欖油 (B)花生油 (C)玉米油 (D)大豆油。
- ( ) 16. 「BENZ」, 「BMW」等著名汽車，以及徠卡等電子產品大廠，其產品都有品質高、耐用的良好口碑。請問：這些品牌都是出自下列哪個國家？  
(A)德國 (B)英國 (C)法國 (D)義大利。
- ( ) 17. 「該城市是北美的第一大城及第一大港，西元 2001 年 9 月 11 日，該城市的世界貿易大樓被中東恐怖分子所挾持的民航客機撞毀，引起世界震驚，城市內所有交通立刻受到嚴密管制。」請問：文中所指的是下列哪個都市？  
(A)倫敦 (B)紐約 (C)東京 (D)巴黎。
- ( ) 18. 觀看好萊塢電影是許多人假日的休閒方式之一。請問：好萊塢位於附圖中何處？  
(A)甲 (B)乙 (C)丙 (D)丁。



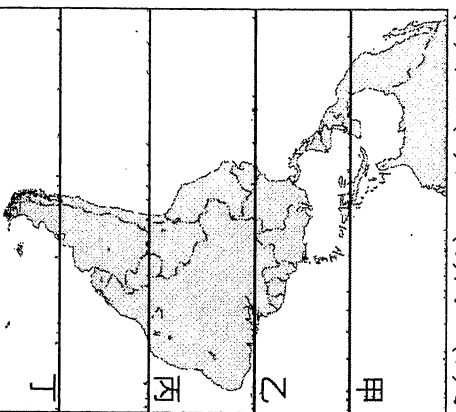
- ( ) 19. 某廠商為標示自己的產品原料來源，特別強調是來自美國的百分百天然棉，其產地應最接近附圖中哪個農業帶附近？  
 (A)乙 (B)丙 (C)丁 (D)己。



- ( ) 20. 附表為中南美洲三國的首都及其海拔高度資料表，海拔雖高，但人口集中。該現象與三國的自然條件極相關，請問這些國家的自然環境有何共同的特色？  
 (A)緯度較低 (B)迎盛行風  
 (C)降水充沛 (D)高壓籠罩。

國家	城市	海拔高度
墨西哥	墨西哥城	2,240 公尺
哥倫比亞	波哥大	2,640 公尺
厄瓜多	基多	2,852 公尺

- ( ) 21. 南美洲的亞馬孫雨林由於有赤道經過，孕育出世界上最大的熱帶雨林，也擁有全球流量最大、流域面積最廣的亞馬孫河。由上文推斷，附圖中哪條線段能正確的位置？  
 (A)甲 (B)乙 (C)丙 (D)丁。



- ( ) 22. 中南美洲有大範圍的面積位於南、北回歸線之間。請問：下列何種地理特色和上述條件的關係最大？  
 (A)地勢高聳 (B)資源豐富 (C)時區眾多  
 (D)熱帶範圍廣大。
- ( ) 23. 巴西東南沿海地帶屬夏雨型暖溼氣候，形成此種氣候特徵的主因為何？(甲)盛行西風吹拂 (乙)東南信風吹拂 (丙)暖流流經 (丁)副熱帶高氣壓籠罩  
 (A)甲乙 (B)甲丁 (C)乙丙 (D)丙丁。

- ( ) 24. 阿明今年十月去中國旅遊。途中他在哪個地區可見到椰影搖曳的熱帶海岸景觀？  
 (A)山東半島 (B)遼東半島  
 (C)長江沿岸 (D)海南島

- ( ) 25. 小倫參加《百萬中學堂》益智節目的錄影，被問到中國西部區域的農業發展，他向四位朋友求助，他應該採用誰的回答才有機會順利晉級？  
 (A)小啟：「河西走廊農田為水田景觀。」  
 (B)小威：「河套地區利用高山雪水來灌溉。」  
 (C)小智：「藏南谷地是利用雅魯藏布江來施行灌溉農業。」  
 (D)小健：「塔里木盆地靠豐沛雨水施行綠洲農業。」

- ( ) 26. 吐魯番窪地、哈密一帶的農業多以坎井來灌溉的主要目的為何？  
 (A)日夜溫差太大 (B)減少水分蒸發損失  
 (C)防止結冰 (D)保持水源清潔

- ( ) 27. 新疆民謠：「吐魯番的葡萄，哈密的瓜，庫爾勒的香梨人人誇，葉城的石榴頂呱呱。」新疆因具有下列何項特色，特別適合瓜果生長，成為重要產區？  
 (A)日照時間短 (B)日夜溫差大  
 (C)降水量充足 (D)土壤肥沃

- ( ) 28. 西套平原有「塞上江南」之稱，主要是當地哪種景觀與江南地區相似，因而得此美名？  
 (A)風景秀麗，媲美江南  
 (B)氣候溼潤，農作年可二穫  
 (C)灌溉便利，可栽種稻米  
 (D)交通便利，作物可自由流通

- ( ) 29. 熱帶季風氣候、熱帶莽原氣候和溫帶地中海型氣候，三者具有下列哪項共同的氣候特徵？  
 (A)乾溼季節分明 (B)降水集中乾季  
 (C)無乾溼季之分 (D)終年高溫多雨

- ( ) 30. 人口的移動原因有二，一為「推力」；另一則為「拉力」。在全球人口移動之中，哪個國家的「拉力」因素最優，能吸引他國人民移居到該國？  
 (A)印度 (B)加拿大 (C)中國 (D)俄羅斯

- ( ) 31. 日本三大島為：(甲)北海道；(乙)本州；(丙)九州。緯度的高低會影響年溫差的大小，上述三地年溫差由大至小依序排列為下列何者？  
 (A)甲乙丙 (B)甲丙乙 (C)丙乙甲 (D)乙甲丙
- ( ) 32. 西亞戰略及交通地位相當重要，因為地處三大洲的接觸帶上。這三大洲分別為下列何者？  
 (A)亞洲、非洲、北美洲  
 (B)亞洲、歐洲、北美洲  
 (C)歐洲、非洲、北美洲  
 (D)歐洲、亞洲、非洲

- ( ) 33. 西亞中部的「肥沃月彎」是西亞最富庶的農業區，其主要原因為何？  
 (A)人力充足 (B)雨量充沛  
 (C)河川灌溉 (D)發達的農業技術

- ( ) 34. 「根據《出埃及記》記載，摩西率領猶太人逃離埃及時，將□□一分為二，被譽為最壯觀的神蹟之一。2010年科學家利用電腦模擬發現，此一『神蹟』或許真有其事，只需時速101公里的東風連續刮12小時，就能讓海水分開，露出海底達4小時之久。」文中空格是指下列哪個海域？  
 (A)黑海 (B)紅海 (C)地中海 (D)裏海

( ) 35. 「亞洲心臟，世界邊緣」，用來形容中亞在哪種條件上的地位最為貼切？

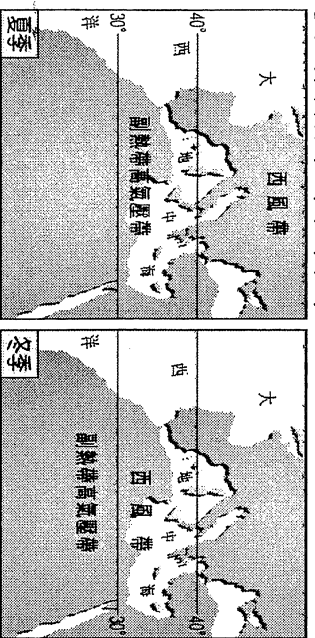
(A)地形 (B)位置 (C)氣候 (D)經濟

( ) 36. 附表為伊比利半島的自然環境與主要國家簡表，表格中敘述何者有誤？

項 目	說 明
(甲)位 置	以庇里牛斯山脈與法國為界，南端以直布羅陀海峽與北非相望
(乙)地 形	以高原、丘陵為主體，平原面積狹小
(丙)氣 候	北部全年溫和溼潤，其餘地區夏季為乾季
(丁)國 家	希臘、保加利亞、克羅埃西亞等國

(A)甲 (B)乙 (C)丙 (D)丁

( ) 37. 附圖是南歐溫帶地中海型氣候冬夏季風帶季移圖，由圖中資料可以得知，溫帶地中海型氣候最主要的降雨季節在何時？



(A)春季 (B)夏季 (C)秋季 (D)冬季

( ) 38. 電影《大蟒蛇之神出鬼沒》中，一行人搭上前往上游的船隻，沿途看見茂密且樹種繁多的森林，森林中及河道中處處充滿了多種不常見的生物。該片所拍攝的河流最有可能是下列何者？

(A)聖羅倫斯河 (B)剛果河  
(C)尼羅河 (D)密西西比河

( ) 39. 日劇《在世界的中心呼喊愛》中，女主角一心想前往澳洲的大紅岩——烏魯汝（艾爾斯岩），認為這裡是世界的中心。這個岩石聳立於沙漠中，是世界自然遺產之一。它位於附圖中澳洲的何處？



(A)甲 (B)乙 (C)丙 (D)丁

( ) 40. 「全球化」在今日已是個再普遍不過的名詞，其內容包括消費全球化、文化全球化等。造成全球化的浪潮最主要與下列哪項技術大幅進步有關？

(A)生物科技 (B)交通運輸  
(C)水利設施 (D)農業技術

彰化縣立明倫國中 107 學年度第二學期第二次段考  
三年級地理科解卷

1-5	C	C	A	B	B
6-10	C	B	B	B	A
11-15	D	A	D	B	A
16-20	A	B	D	B	A
21-25	B	D	C	D	C
26-30	B	B	C	A	B
31-35	A	D	C	B	B
36-40	D	D	B	B	B