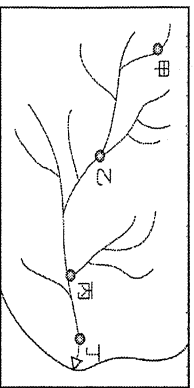


一、單一選擇題

- () 地球總水量中，海洋占了97%外，陸地上的水只占3%，其中陸地上的水，比例最高的是何者？
(A)湖泊 (B)大氣水氣 (C)地下水 (D)高山冰雪。
- () 水透過各種方式在地球上循環，其過程為何？
(A)蒸發→凝結→逕流→降水 (B)凝結→蒸發→降水→逕流 (C)蒸發→凝結→降水→逕流 (D)蒸發→降水→凝結→逕流。
- () 無論是透過降雨、冰雪融化或是地下水湧出，這些在地表上沿著河川在地面漫流的水稱為下列何者？
(A)降水 (B)逕流 (C)水系 (D)集水區。
- () 若河川沿岸皆有汙染源，附圖中哪一地點河川的汙染最嚴重？ (A)甲 (B)乙 (C)丙 (D)丁。

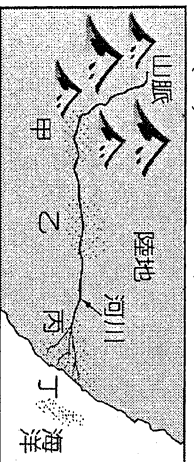


- () 若要觀察某地方的水源，並蒐集相關資料，以供水源保護和開發計畫，何種地圖最為適合？ (A)地形圖 (B)等高線圖 (C)流域圖 (D)水循環圖。
- () 某地區的流域示意圖如附圖所示。請問：應有幾個水系？ (A)3個 (B)5個 (C)2個 (D)4個。

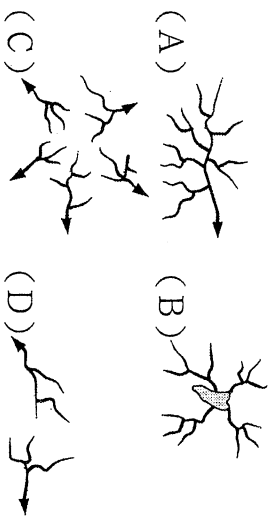


- () 下列四條不同水系的水位變化圖，哪一條水系降雨量最多且流域水土保持情況較佳，流量穩定？
(A) (B) (C) (D)

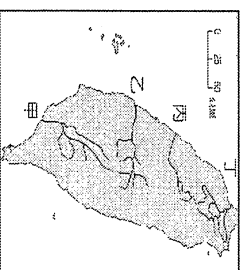
- () 河川中不同河段的特性各不相同。請問：附圖中哪一個河段的水流較急，且主要以侵蝕作用為主？
(A)甲處以上河段 (B)甲乙之間河段 (C)乙丙之間河段 (D)丙丁之間河段。



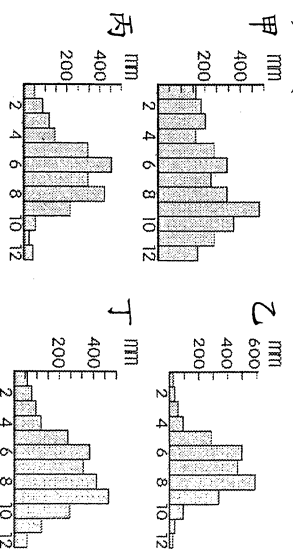
- () 臺灣受中央山脈分布影響，是哪一種水系？



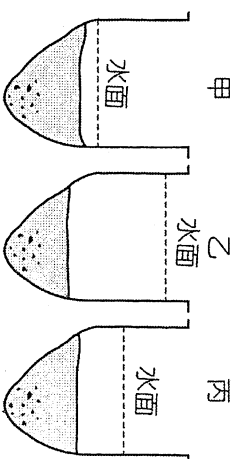
- () 下列為臺灣主要河川集水區，其中分布位置最北的是哪一個？ (A)淡水河集水區 (B)蘭陽溪集水區 (C)大安溪集水區 (D)卑南溪集水區。
- () 關於臺灣河川的主要特徵，下列敘述何者最為正確？ (A)東部河川長度較長 (B)河短、坡陡、流急 (C)多向東注入太平洋 (D)水位變化小。
- () 附圖中哪一條河川的入海處最靠近北回歸線？
(A)甲 (B)乙 (C)丙 (D)丁。



- () 淡水河具備航運價值與下列何項因素密切相關？
(A)河道廣 (B)支流多 (C)流域廣 (D)流量穩定。
- () 附圖中哪一張氣候圖，最有可能在台灣南部
(A)甲 (B)乙 (C)丙 (D)丁。



- () 附圖為曾文溪某地點在不同季節的主要水位示意圖。請問：圖中乙的現象最主要出現在下列哪一個季節？ (A)春季 (B)夏季 (C)秋季 (D)冬季。

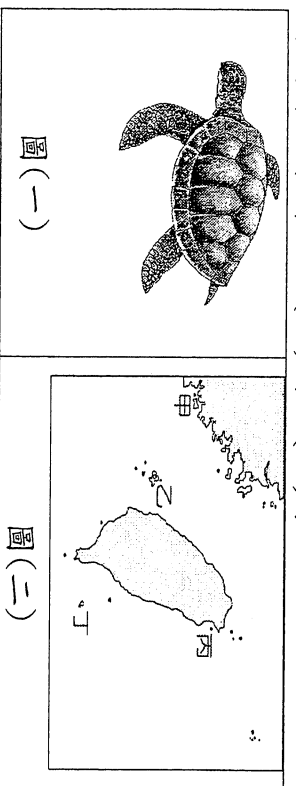


- () 清領時期，西部選擇海運而不考慮陸運，是基於臺灣西部陸地上，哪一項限制？ (A)森林茂密 (B)天氣溼熱 (C)河流東西流向 (D)山脈南北縱走。
- () 附表的甲、乙、丙代表臺灣三條主要河川，此三條河川由北而南的分布依序為何？ (A)甲乙丙 (B)乙丙甲 (C)甲丙乙 (D)丙乙甲。

河川	河川下游地區的特色
甲	河口附近的七股潟湖，是黑面琵鷺南下過冬的棲息地。
乙	水量豐穩，無明顯枯水期，早期具航運價值。
丙	該河川所沖積的彰化平原，是臺灣重要的花卉、蔬菜產地。

- () 臺灣許多河川的河道都設有此類攔沙壩，這些攔沙壩普遍設於下列哪個地區的河道？ (A)河川出海口的 (B)河川下游平原地區 (C)河川由山地進入平原的交界 (D)水庫集水區。

19. () 近年來水庫泥沙淤積及優養化嚴重，以致於水庫的壽命受到嚴重的威脅。其主要影響原因為何？
 (A) 上游山坡地的濫墾 (B) 水庫設計失當 (C) 氣候多變化 (D) 水庫管理不當。
20. () 大臺北地區的民生用水多依賴哪一個水庫？ (A) 德基水庫 (B) 曾文水庫 (C) 日月潭水庫 (D) 翡翠水庫。
21. () 臺灣的河川大部分為「荒溪型河川」。請問：這和哪一項自然環境影響關係最大？ (A) 熱帶低緯 (B) 地層下陷 (C) 乾溼季節分明 (D) 降雨量少。
22. () 臺灣有許多珍貴的特有種生物，冰河時期許多亞洲大陸的生物透過何處遷移來臺，因此該地區被稱為生物遷移的橋樑？ (A) 巴士海峽 (B) 中央山脈 (C) 太平洋 (D) 臺灣海峽。
23. () 3800公尺高的玉山山頂，可觀察到在山頂附近主要是哪種植被景觀？ (A) 草原 (B) 針葉林 (C) 闊葉林 (D) 紅樹林。
24. () 臺灣同時具備了熱帶、副熱帶、溫帶及寒帶的氣候，與下列何項因素密切相關？(A) 熱帶高山 (B) 季風發達 (C) 四面環海 (D) 動植物眾多。
25. () 台灣養殖業盛行的潟湖，常見到何種植物分布？ (A) 榕樹 (B) 草原 (C) 紅樹林 (D) 扁柏。
26. () 台灣西南沿海常見淹水災害，與何種產業關係密切？(A) 農業(B) 工業(C) 畜牧業(D) 養殖漁業。
27. () 臺灣屢見山崩、土石流釀成災害，其原因不包括下列何項？ (A) 坡度陡急(B) 緯度高(C) 位於地震帶上(D) 濫墾濫伐。
28. () 請問台灣最大的黑面琵鷺棲息地？ (A) 淡水河口(B) 大甲溪口(C) 曾文溪口(D) 高屏溪口。
29. () 小明到火災山自然保留區進行地理實察，它位於下列哪一個縣市？ (A) 新竹縣 (B) 苗栗縣 (C) 臺中市 (D) 南投縣。
30. () 圖(一)是臺灣的保育類動物綠蠵龜，政府為避免綠蠵龜產卵棲地遭到人為破壞，已在該棲地設立野生動物保護區，請問位於圖(二)中哪個離島？
 (A) 甲 (B) 乙 (C) 丙 (D) 丁。



31. () 下列維持水土保持的方法中，正確的有哪些？(甲) 山區廣植檳榔樹(乙)沿等高線耕種(丙)開發時避免超過土地負荷(丁)避免山坡地植被破壞 (A) 甲乙丁 (B) 甲乙丙 (C) 甲丙丁 (D) 乙丙丁。
32. () 花東縱谷由哪兩座山脈形成的縱谷地形，為當地聚落的精華區？ (A) 中央山脈、雪山山脈 (B) 中央山脈、海岸山脈 (C) 雪山山脈、海岸山脈

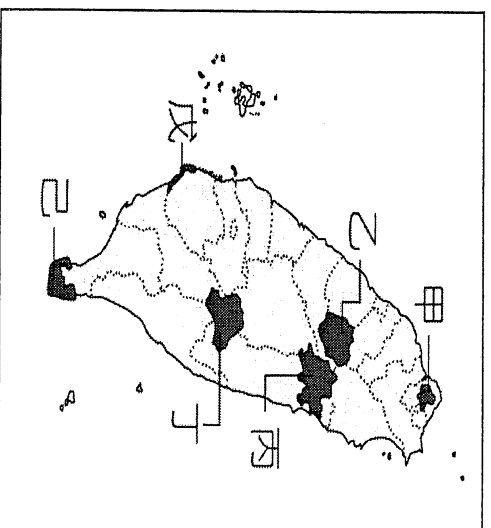
33. () 日月潭水庫最近發現有水位指標的「九頭蛙」，見到它的底部，可能是因為最近連日乾早有關，請問最有可能發生的季節是
 (A) 春夏(B) 冬末春初(C) 夏秋(D) 秋冬

二、題組

位於臺灣中部的日月潭是具有多功能的湖泊，供應農業與民生用水，也是著名的觀光勝地。請回答下列問題：

34. () 日月潭在哪一縣境內？
 (A) 嘉義縣(B) 南投縣(C) 彰化縣(D) 雲林縣。
35. () 日月潭水庫位於哪一條河川的上游？
 (A) 大安溪(B) 大甲溪(C) 大肚溪(D) 濁水溪。

附圖是臺灣本島國家公園的位置圖。請參看圖中資料，回答下列問題：



36. () 哪一座國家公園，以八通關古道、大型野生動物為主？
 (A) 甲 (B) 乙 (C) 丙 (D) 丁。
37. () 哪一座國家公園的火山地形最發達？
 (A) 甲 (B) 乙 (C) 丙 (D) 丁。
38. () 何者是櫻花鉤吻鮭的故鄉？
 (A) 甲 (B) 乙 (C) 丙 (D) 戊。
39. () 何者以「大理石峽谷、奇萊山」等景點聞名？
 (A) 甲 (B) 乙 (C) 丙 (D) 丁。
40. () 何者國家公園，以沙洲、濕地生態為主？
 (A) 甲 (B) 乙 (C) 丙 (D) 戊。

彰化縣立明倫國中 107 學年度第一學期第三次段考一年級
地理科 解 卷

1-5	D	C	B	D	C
6-10	B	A	A	D	A
11-15	B	B	D	B	B
16-20	C	B	D	A	D
21-25	C	D	A	A	C
26-30	D	B	C	B	B
31-35	D	B	B	B	D
36-40	D	A	B	C	B