
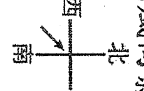


一、單選題：

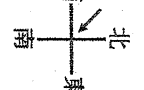
- () 1. 日本氣候深受海洋及季風影響。該國冬夏季風的風向分別為何？
 (A) ↙, ↗ (B) ↘, ↖ (C) ↓, ↑ (D) →, ←
- () 2. 根據研究顯示，泡菜含有維生素 C、鈣等多種營養，可防止皮膚老化。從泡菜成為韓國代表性飲食研判，韓國在農業發展，其最大的限制為何？
 (A) 土壤貧瘠 (B) 雨量稀少 (C) 耕地小 (D) 生長季短
- () 3. 以若想利用寒假到日本滑雪，若考量一地的氣候與緯度，下列哪個地區較能實現她滑雪的願望？
 (A) 九州 (B) 本州 (C) 北海道 (D) 琉球
- () 4. 朝鮮半島屬於溫帶季風氣候區，半島上的北韓氣候較為乾冷，南韓則較為暖溼，其主要原因是哪種差異所造成的？
 (A) 緯度 (B) 風向 (C) 地形 (D) 洋流
- () 5. 每年春天，日本櫻花盛開，那種「櫻吹雪」的美麗景色吸引各國觀光客。若以緯度高低來判斷，觀光客最早可在日本何地看到櫻花？
 (A) 北海道 (B) 四國 (C) 九州 (D) 本州
- () 6. 為了便於原料的進口及產品的輸出，日本的工業主要集中在於下列何地？
 (A) 日本海沿岸 (B) 太平洋沿岸 (C) 北海道 (D) 九州島南端
- () 7. 花田是日本的房屋建築師，在設計房子時她特別注重地基和耐震，這與日本哪個環境特色有關？
 (A) 多颱風 (B) 沙塵暴盛行 (C) 多地震 (D) 龍捲風肆虐
- () 8. 二次大戰期間美國計畫對日本全境進行轟炸，已知轟炸機由西南向東北飛過，依據受創時間，日本四大島被轟炸的先後順序為何？
 (A) 北海道、本州、四國、九州 (B) 九州、四國、本州、北海道 (C) 北海道、四國、九州、本州 (D) 本州、四國、九州、北海道
- () 9. 日本人與臺灣人都喜歡泡湯，日本人來臺灣旅遊也少不了泡湯的行程。日本與臺灣同樣擁有許多溫泉，主要是因為這兩個地區有什麼共同的條件造就這個現象？
 (A) 位在板塊交界帶 (B) 屬於古老的陸塊 (C) 地層較薄 (D) 地下水資源豐富
- () 10. 朝鮮半島上有兩個國家——南韓與北韓，兩國雖然位在同一個半島上，但是自然資源與人文環境差異很大。附表中兩國的比較哪項錯誤？
- | 國家 | (甲)地形 | (乙)氣候 | (丙)天然資源 | (丁)產業活動 |
|----|-------|----------|-----------|----------------|
| 北韓 | 地勢較高 | 緯度高，雨量較少 | 豐富，原料動力充足 | 農畜豐富，汽車、電子產業興盛 |
| 南韓 | 地勢低平 | 緯度低，迎風多雨 | 缺乏 | 重工業發達，民生工業不盛 |
- () 11. 日本四周環海，親潮和黑潮的影響很大，但下列哪種情形並不是洋流所帶來的影響？

- () 12. 承上題，日本沿海一帶為世界重要漁場，漁業資源豐富，主要是拜下列哪項環境條件所賜？
 (A) 海岸線曲折 (B) 有寒、暖流交會 (C) 臨大河入海口 (D) 氣候溫和溼潤
- () 13. 素馨到日本去玩，帶許多具日本特色的紀念品，下列哪項紀念品，與日本位於板塊接觸帶所形成的特色無關？
 (A) 阪神地震的明信片 (B) 櫻花圖案的鑰匙圈 (C) 泡澡用的溫泉粉 (D) 富士山的模型
- () 14. 朝鮮半島地形的主體為何？
 (A) 山地 (B) 盆地 (C) 丘陵 (D) 平原
- () 15. 素馨在寒假時到日本西岸遊玩，發現此時的日本兩日很多，其降水原因為何？
 (A) 溫帶低壓籠罩 (B) 西北季風吹拂 (C) 溫帶氣旋經過 (D) 親潮帶來水氣
- () 16. 近年來，在國際新聞報導中，經常可以看到北韓人民因糧食不夠而餓死的消息。北韓糧食不足的主要是由於什麼原因？
 (A) 耕地少、生長期短 (B) 耕地少、多水旱災 (C) 生長期短、人口眾多 (D) 人口眾多、多水旱災
- () 17. 南韓位於溫帶季風區，冬、夏季節風向交替，夏季為主要的降水季節。南韓夏季的降水來源主要是受到下列哪個風向影響？
- 

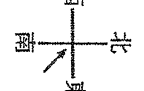
(A)



(B)



(C)



(D)
- () 18. 「」早期以輕工業累積資本，發展出口導向的加工业，近年來，以汽車、高附加價值的資訊產業，如三星 (Samsung) 手機，及文化產業，如在臺灣流行的電視劇《大長今》等創造無限商機。」上述的空格可能是指哪個國家？
 (A) 日本 (B) 南韓 (C) 北韓 (D) 蒙古
- () 19. 北韓建國 65 週年之際，當局在平壤舉行閱兵儀式。臺灣某電視臺獲官方許可進入北韓採訪，下列何者可能是專題報導中會提到的詞語？
 (A) 屬於共產主義 (B) 礦產資源缺乏 (C) 輕工業為發展主軸 (D) 耕地面積廣大遼闊
- () 20. 新聞報導：「日前某國試射一枚飛彈，往東飛行約 800 公里後落入日本海。」由以上內容判斷，這應該是哪個國家所發射的飛彈？
 (A) 日本 (B) 北韓 (C) 越南 (D) 菲律賓
- () 21. 「南、北韓領袖高峰會及試驗鐵路通車，期盼能和平統一。若達成，南韓人民最擔憂的是『良好的根基』將會被北韓侵蝕。」上文所述的「良好的根基」是指下列哪項條件？(A) 礦產資源 (B) 軍事工業 (C) 科技產業 (D) 環境保育

- () 22. 北韓生長季短，年僅一種，而南韓生長季長，年可二種，造成此種差異的最主要影響因素為何？
 (A) 緯度 (B) 季風 (C) 地形 (D) 土壤
- () 23. 有關日本重工業基礎的敘述，下列何者正確？
 (A) 依賴國外進口原料(B)天然資源豐富 (C)沿岸平原廣大且多港灣(D)出口原料，進口產品
- () 24. 妙如到印尼巴厘島度假，當地的氣候四季如夏，午後也常有雷陣雨發生。當地應該屬於哪種氣候類型？
 (A) 熱帶季風氣候 (B) 熱帶雨林氣候 (C) 熱帶莽原氣候 (D) 溫帶地中海型氣候
- () 25. 近年來，有許多外勞來臺工作，其中部分外勞經常聚集在臺北市的清真寺作禮拜。這些外勞從不吃豬肉，且每天都要對著參加的方向朝拜五次，這些外勞較不可能來自下列哪個國家？
 (A) 印尼(B) 馬來西亞(C)菲律賓北部(D) 汶萊
- () 26. 實力派演員阿青嫂早年隻身從印尼渡海來臺發展，如今在演藝圈已小有成就，對於臺灣的小吃更是愛不釋手、讚不絕口。但有一道小吃因信仰的因素，至今阿青嫂只能遠觀而不敢嘗試，她不敢嘗試的最有可能是下列哪道小吃？
 (A)珍珠奶茶(B)蚵仔煎(C)椒鹽豬排(D)花生豆花
- () 27. 擁有 150 年歷史的英國國寶級名牌 BURBERRY，為了降低生產成本，計畫出走英國，打算要將工廠設立在越南。BURBERRY 新廠設立的主要考量是當地具有下列哪項工業區位？
 (A) 勞工 (B) 資金 (C) 原料 (D) 技術
- () 28. 言風今年一月準備到國外自助旅行，出發前整理行李時他列了一張清單如附圖。請根據言風準備的物品，判斷他最可能前往哪個地點旅行？



- (A) 日本(B) 俄羅斯(C)哈爾濱(D) 普吉島
- () 29. 「東南亞、中南美洲及西部非洲的經濟皆具有西方殖民色彩。」這段文字所敘述的殖民地式經濟是哪種產業？
 (A) 工業(B)林業(C)熱帶栽培業(D)畜牧業
- () 30. 中南半島及菲律賓群島，氣候上乾、溼季分明，屬於下列哪種氣候類型？
 (A) 熱帶雨林氣候 (B) 熱帶莽原氣候 (C) 熱帶季風氣候 (D) 熱帶沙漠氣候
- () 31. 關於中南半島與南洋群島的比較如附表，下列何者錯誤？

	甲、地形	乙、氣候	丙、宗教信仰	丁、農作生產
中南半島	北高南低	熱帶季風	佛教	多種植稻米
南洋群島	多火山、地震	熱帶莽原	伊斯蘭教	熱帶栽培業

(A) 甲 (B) 乙 (C) 丙 (D) 丁

- () 32. 日前，孟加拉成衣廠大樓倒塌造成多人死傷，使歐美知名品牌急欲擺脫血汗工廠的汗名，許多大廠計畫完全撤出孟加拉。下列哪個國家具有和孟加拉相同優勢，可能成為新廠的據點？
 (A) 南韓 (B) 印尼 (C) 臺灣 (D) 日本
- () 33. 印度的氣候屬於熱帶季風氣候，而當地最適合旅遊的時機應在哪幾個月分？
 (A) 十一月～二月 (B) 三～五月 (C) 六～十月 (D) 四～六月
- () 34. 印度西北部呈現乾燥的沙漠氣候，其主要原因為何？
 (A) 副熱帶高壓所籠罩 (B) 太陽直射時間較長 (C) 距離海洋太遠 (D) 地勢太過低平
- () 35. 小天到印度教人數眾多的印度旅遊，肚子餓了想到餐廳用餐，菜單中不會出現下列哪種菜色？
 (A) 薑燒豬肉堡 (B) 吉事牛肉堡 (C) 海洋鮮蝦堡 (D) 勁辣雞腿堡
- () 36. 南亞印度半島有「次大陸」之稱，其地形結構的分布，從南到北依序應該是下列何者？
 (A) 高原→平原→山地 (B) 山地→平原→高原 (C) 高原→山地→平原 (D) 山地→高原→平原
- () 37. 對於印度大平原的降水量特色，下列說明何者正確？
 (A) 由東向西遞減 (B) 由西向東遞減 (C) 由北向南遞減 (D) 由南向北遞減
- () 38. 印度半島上哪個地理區的地質古老，蘊藏豐富的煤、鐵等礦產資源？
 (A) 北部高山區 (B) 恆河平原 (C) 德干高原 (D) 印度河平原
- () 39. 印度的大壺節堪稱全球最大的宗教慶典，數萬朝聖者進入有「印度之母」之稱的「聖河」沐浴。不過，這條印度人眼中最聖潔的河川，已被列入世界汙染最嚴重的河川之一。以上所提及的河川為何？
 (A) 紅河 (B) 恆河 (C) 湄公河 (D) 印度河
- () 40. 「《大眼看世界》本集主持人將為您揭開中南半島唯一『內陸國』的神祕面紗，跟著我們的腳步一起出發吧！」請判斷節目拍攝的地點為何？
 (A) 緬甸 (B) 柬埔寨 (C) 寮國 (D) 泰國

明倫國中 106 學年度第二學期第三次段考二年級
地理科 解答卷

1-5	B	D	C	A	C
6-10	B	C	B	A	D
11-15	D	B	B	A	B
16-20	A	D	B	A	B
21-25	C	A	A	B	C
26-30	C	A	D	C	C
31-35	B	B	A	A	B
36-40	A	A	C	B	C