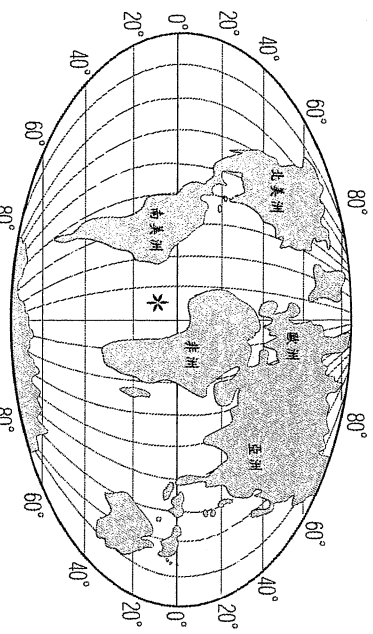
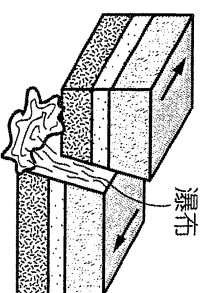


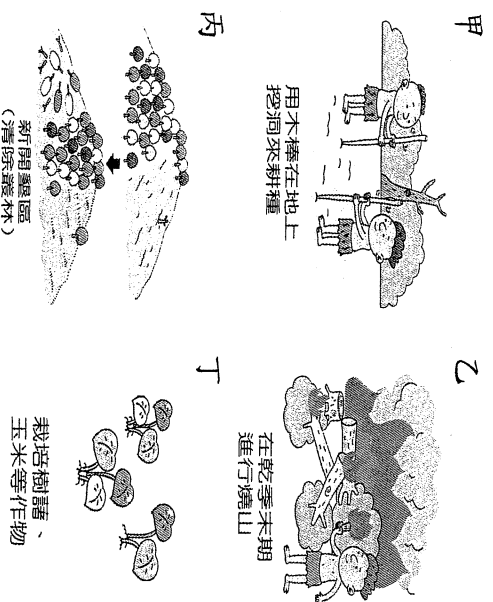
單一選擇題

- ( ) 非洲多以傳統的農牧業活動為主，因此自然環境的影響更加明顯。請問：下列有關該地區自然環境的敘述中何者正確？  
 (A) 地形崎嶇、氣候嚴寒  
 (B) 地形單調、氣候對稱  
 (C) 地形崎嶇、氣候對稱  
 (D) 地形單調、氣候嚴寒。
- ( ) 剛果河為非洲流域面積最寬廣的河川，這和該河川位於哪一種氣候區內的關係相當密切？  
 (A) 熱帶莽原氣候 (B) 熱帶沙漠氣候  
 (C) 熱帶雨林氣候 (D) 高地氣候。
- ( ) 非洲西北部的摩洛哥為著名的度假天堂，稱之為「北非花園」。請問：該地區的氣候類型為何者？  
 (A) 溫帶海洋性氣候 (B) 熱帶雨林氣候  
 (C) 溫帶地中海型氣候 (D) 熱帶莽原氣候。
- ( ) 非洲境內的氣候類型相當多樣化，若以年雨量多寡加以判斷，下列哪一個氣候區的降雨量最多？  
 (A) 溫帶地中海氣候 (B) 熱帶莽原氣候  
 (C) 高地氣候 (D) 熱帶雨林氣候。
- ( ) 附圖為世界全圖，圖中打上「\*」的海域名稱是什麼？  
 (A) 大西洋 (B) 太平洋  
 (C) 印度洋 (D) 北極海。
- ( ) 位於非洲西北部的突尼西亞，於沿海谷地種植了數千萬株的橄欖樹，橄欖油的產量占世界總產量的 4% 至 9%，居世界重要地位，有橄欖之邦的美稱。下列何者與橄欖成為該國重要經濟作物的關係最密切？  
 (A) 因勞力短缺，大規模機械化種植單一作物  
 (B) 雨季與生長季無法配合，故種植耐旱作物  
 (C) 受英國殖民影響，引進英國本土經濟作物  
 (D) 高溫多雨的氣候，適合種植熱帶經濟作物。
- ( ) 法國境內有數百萬的阿爾及利亞移民勞工，因此在兩國間關係相當密切。請問：位於北非的阿爾及利亞必須經過哪一個海域才可到達法國？  
 (A) 黑海 (B) 紅海  
 (C) 地中海 (D) 波羅的海。
- ( ) 電影《馬達加斯加》其名稱為非洲大陸東側的島嶼，請依其地理位置判斷，該島嶼位於哪一個海洋中？  
 (A) 地中海 (B) 太平洋


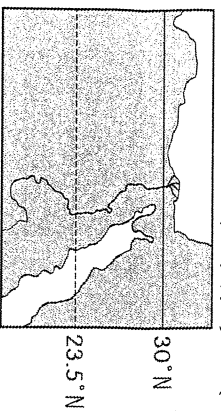


- ( ) 非洲地形相當單調，若達爾文由南向北前進，依序將會經過哪三個盆地地形區？  
 (A) 喀拉哈里盆地、剛果盆地、撒哈拉盆地  
 (B) 撒哈拉盆地、喀拉哈里盆地、剛果盆地  
 (C) 剛果盆地、撒哈拉盆地、喀拉哈里盆地  
 (D) 喀拉哈里盆地、撒哈拉盆地、剛果盆地。
- ( ) 非洲境內的哪一條河川終年水力皆相當豐富，因此發展工業活動的潛力十足？  
 (A) 尼羅河 (B) 剛果河  
 (C) 亞馬孫河 (D) 尼日河。
- ( ) 非洲主要的疆域多位於南、北回歸線之間，氣溫普遍偏高。然而境內哪一種氣候類型卻較為涼爽，因此成為主要的聚落所在？  
 (A) 高地氣候 (B) 熱帶雨林氣候  
 (C) 溫帶地中海型氣候 (D) 熱帶莽原氣候。
- ( ) 附圖為某地形景觀的示意圖，請根據圖中資料研判，造成該種景觀的成因為何？  
 (A) 褶曲作用 (B) 斷層作用  
 (C) 冰河作用 (D) 風力作用。
- ( ) 世界知名的 F1 賽車多在 5、6 月分於西北非的摩洛哥舉辦，當時比賽的車手最可能遇到何種天候狀況的挑戰？  
 (A) 連日豪雨 (B) 乾燥酷熱  
 (C) 天寒積雪 (D) 涼爽舒適。
- ( ) 英國在殖民非洲時期，為了增加棉花的種植面積及產量，因此在哪一條河興建了亞斯文高壩，對當地的農業幫助甚大？  
 (A) 剛果河 (B) 尼日河  
 (C) 三比西河 (D) 尼羅河。
- ( ) 「集約農業」是指在單位面積的土地上，投入大量的勞力、資金，以提高單位面積產量的經營方式。請依此定義判斷，下列何者最不可能是集約農業？  
 (A) 游耕農業 (B) 稻作農業  
 (C) 綠洲農業 (D) 熱帶栽培業。
- ( ) 德國賓士汽車 (BENZ) 的生產重心遍及世界各國，請問：該車廠的小型入門車種若欲在非洲生產製造，則以下列哪一個國家最為適合？  
 (A) 埃及 (B) 南非 (C) 利比亞 (D) 摩洛哥。
- ( ) 附圖為非洲居民傳統的生活方式，其進行的順序應為何？  
 (A) 甲乙丙丁 (B) 乙丙丁甲  
 (C) 丙丁乙甲 (D) 乙甲丁丙。





18. ( )非洲的馬塞族為當地著名的游牧民族，這種逐水草而居的牧業活動主要分布於哪一個氣候區內？  
 (A)熱帶雨林氣候 (B)乾燥氣候  
 (C)溫帶地中海型氣候 (D)高地氣候。
19. ( )非洲雖然有歷史悠久的埃及古文明分布，然而內陸地區卻因為開發較晚，因此被稱之為「黑暗大陸」。若就該洲的地理位置加以判斷，形成外來文化難以進入的地形阻礙中，未包括下列何者？  
 (A)平直海岸 (B)廣大漠地  
 (C)高大山脈 (D)急流陡崖。
20. ( )非洲某河川的流域分布圖如附圖所示，若依其自然環境的特色判斷，當地最適合種植何種作物外銷？  
 (A)咖啡 (B)玉米 (C)橡膠 (D)棉花。
21. ( )某一本遊記中寫到：「我在沙漠中看到了古代帝王的陵墓，高聳入雲；陵墓內的牆壁上刻畫有動物或器物形象的文字，靜穆中有著幾分神秘感。」此遊記中所描述的古代遺跡，最有可能是下列何者？  
 (A)埃及金字塔 (B)柬埔寨吳哥窟  
 (C)希臘帕德嫩神廟 (D)土耳其聖索菲亞教堂。
22. ( )小王到非洲北部的度假勝地旅遊，然而導遊提醒女性必須尊重當地文化，避免背心短褲。這和當地盛行何種宗教有關？  
 (A)佛教(B)基督教(C)伊斯蘭教(D)印度教。
23. ( )非洲大陸各地區的區域特色呈現南北差異，位於撒哈拉沙漠以南的地區，主要族群為何？  
 (A)拉丁人(B)斯拉夫人  
 (C)阿拉伯人(D)非洲黑人
24. ( )非洲境內各地的文化特性不同，請由附圖中的照片判斷，應該為哪一個宗教的建築物？  
 (A)基督教(B)佛教(C)猶太教(D)伊斯蘭教。



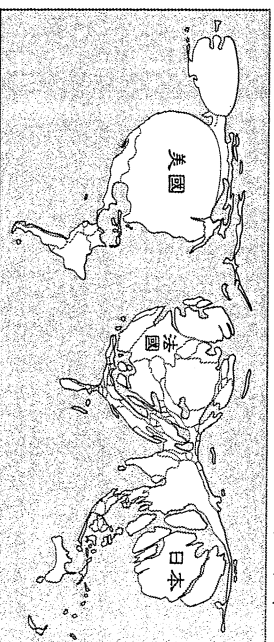
25. ( )非洲的文化多元，境內各國的官方語言也不一樣，如附表所示，造成這種情形的原因為何？  
 (A)貿易往來 (B)殖民歷史  
 (C)宗教傳播 (D)族群種類。

國家	官方語言
尼日	法語
馬達加斯加	法語
尚比亞	英語
奈及利亞	英語
安哥拉	葡萄牙語
莫三比克	葡萄牙語

26. ( )非洲各國受到殖民的影響，主要以農業產品及礦物的輸出為主，然而附圖中的南非共和國卻以發展礦工業為主，農業僅占全國生產毛額的3%。請問：南非農業發展受限的主要因素為何？  
 (A)氣溫偏低 (B)降雨不足  
 (C)生長季短 (D)勞工短缺。



27. ( )附圖是世界銀行根據2005年各國GDP資料所繪製的地圖。GDP愈高的國家，在圖中的面積就會愈大；反之，則面積就會愈小。由該圖判斷，下列四個地區中，何者的GDP最低？  
 (A)南亞 (B)西非 (C)南美 (D)東南亞。



28. ( )世界展望會常募集大家的愛心幫助世界各地的人民，其中某地區因為人口增加導致糧食短缺，再加上沉重的外債，人民普遍貧窮，生活相當困苦。請問：上述某地區應是指下列何者？  
 (A)東亞 (B)東非 (C)北美 (D)西亞。
29. ( )大洋洲上的2萬多個島嶼分布相當廣泛，其中哪個島群的地理位置多位於西半球？  
 (A)玻里尼西亞 (B)美拉尼西亞  
 (C)阿爾及利亞 (D)密克羅尼西亞。
30. ( )澳洲在第二次世界大戰後，開始發展工業活動。該地區發展工業的有利條件為下列何者？  
 (A)礦產豐富 (B)人口眾多  
 (C)資金充足 (D)市場廣大。
31. ( )位於水半球中心的紐西蘭素有「活的地形教室」之稱，該國主要的地形主體為下列何者？  
 (A)高原 (B)平原 (C)山地 (D)盆地。

32. ( ) 紐西蘭的氣候條件相當優良，因此當地的觀光業十分發達。請問：該國的氣候類型為下列何者？

- (A) 溫帶地中海型氣候 (B) 熱帶莽原氣候  
(C) 溫帶海洋性氣候 (D) 夏雨型暖溼氣候。

- (A) 地勢高低 (B) 面積大小  
(C) 氣候類型 (D) 經濟活動。

33. ( ) 「澳洲因距離各大洲相當遙遠，動植物得以長時間獨立演化，有只能走而不能飛的鳥，有只用雙腳行走的蜥蜴，有腳上長蹼的老鼠，真是個『珍貴動物博物館』。」上文所述之現象與下列何者關係最為密切？

- (A) 大分水嶺山脈阻隔澳洲東西交通  
(B) 澳洲熱帶沙漠面積廣大難以進入  
(C) 澳洲是鄰近水半球中心的古陸塊  
(D) 澳洲與南極洲之間的距離較接近。

34. ( ) 太平洋上的 2 萬多個島嶼稱之為大洋洲，其分布大致以哪兩條經緯線作為界線，分為三大島群？

- (A) 赤道、北回歸線 (B) 赤道、零度經線  
(C) 北回歸線、南回歸線 (D) 赤道、180 度經線。

35. ( ) 大洋洲的許多島嶼景色皆相當漂亮，其中哪一個國家(地區)為珊瑚礁島所組成？

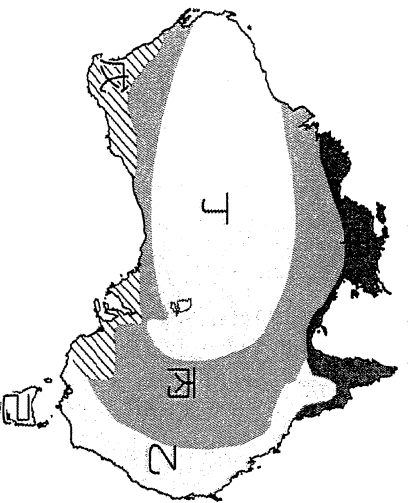
- (A) 夏威夷 (B) 帛琉 (C) 紐西蘭 (D) 澳洲。  
(A) 澳洲境內的降雨多寡各地不同，形成相異的氣候類型。該地區的雨量多寡主要受到下列何者的影響？  
(A) 東北季風 (B) 東南信風  
(C) 西北信風 (D) 東北信風。

37. ( ) 澳洲的高原地帶因為受到下列哪一個行星風系經過的影響，因此形成廣大的沙漠氣候？

- (A) 東北信風 (B) 赤道低壓帶  
(C) 副熱帶高氣壓帶 (D) 西風帶。

38. ( ) 小名今年 1 月到澳洲旅遊，前往著名的雪梨度假，欣賞歌劇院的巧奪天工。隨後往北到著名的黃金海岸，體會壯闊的自然奇景及農莊風情。請問：小名遊覽的地區主要位於附圖哪一個氣候區內？

- (A) 甲 (B) 乙 (C) 丙 (D) 丁。



39. ( ) 「人口稀少反而成為該國的優勢，因為自然環境保存良好，故成為重要的觀光資源。許多電影便看當地人間天堂似的環境，遠赴位於水半球中心的該國取景拍攝。」請問：上文中的國家最可能為何？

- (A) 美國 (B) 日本 (C) 法國 (D) 紐西蘭。

40. ( ) 有人說：「澳洲是褐色大陸，紐西蘭是綠色島嶼。」同位於南半球位置相近的兩國，造成這種差異的因素為何？

彰化縣立明倫國中 106 學年度第二學期第一次段考三年級  
地理科試卷答案

1-5	B	C	C	D	A
6-10	B	C	D	A	B
11-15	A	B	B	D	A
16-20	B	D	B	C	D
21-25	A	C	D	D	B
26-30	B	B	B	A	A
31-35	C	C	C	D	B
36-40	B	C	B	D	C