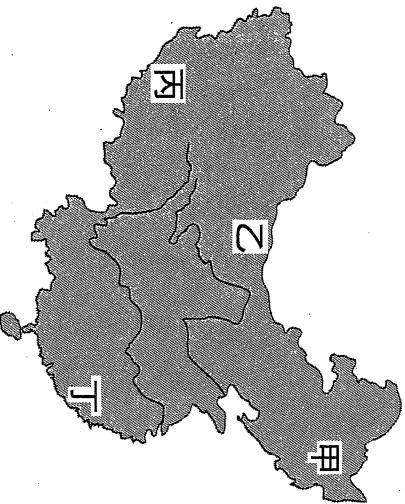


一、單一選擇題

- () 中國的哈爾濱地區，每年均以「冰雪節」來吸引大量的遊客，成為當地的特色。該地舉辦「冰雪節」的有利條件為何？ (A) 緯度較高 (B) 地勢較高 (C) 地形平坦 (D) 溫度較高。
- () 2016年為猴年，中國電影公司推出「西遊記之孫悟空三打白骨精」搶攻農曆春節票房，電影劇組還特別在前年6月時前往故事中的火焰山——吐魯番窪地實境拍攝，希望給觀眾更豐富的視覺饗宴。請問：電影劇組在吐魯番窪地實境拍攝時會面臨下列何種嚴苛的環境挑戰？ (A) 颱風侵襲 (B) 嚴寒急凍 (C) 滂沱大雨 (D) 酷熱高溫。
- () 中國夏季各地區普遍高溫，但境內哪一個地勢階梯在夏季時氣溫低於20°C，和其他地區大不相同？ (A) 第一級階梯 (B) 第二級階梯 (C) 第三級階梯 (D) 沿海離島區。
- () 中國有33個省級行政區，每個行政區都有其特色，若以年平均溫度來判斷，下列哪一行政區的溫度最高？ (A) 海南省 (B) 廣西壯族自治區 (C) 重慶市 (D) 香港特別行政區。
- () 冬季時位於中國境內的冷高壓中心形成強烈冷氣團，不僅對中國造成影響，冷氣團也會影響鄰近的日、韓、臺灣等地。請問：若依其位置判斷，冬季的冷高壓中心大致位於附圖中何處？



(A) 甲 (B) 乙 (C) 丙 (D) 丁。

- () 季風氣候主要指隨著季節變化的風向，影響當地的氣溫及雨量。請問：附表中有關中國北部及南部的季風風向比較，何者最正確？

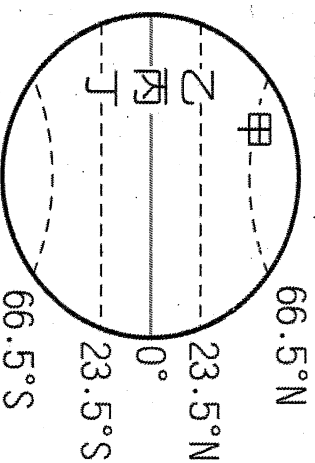
	甲	乙	丙	丁
北部	夏季東北風	夏季西北風	冬季西北風	夏季東南風
南部	冬季西北風	冬季東南風	夏季東南風	冬季東北風

(A) 甲 (B) 乙 (C) 丙 (D) 丁。

- () 真琴前往中國海南島參加國際游泳競賽，當地在東北季風吹拂下，下起了綿綿細雨，讓她擔心會影響賽事。請問：真琴前往海南島的季節最可能為下列何時？ (A) 6月 (B) 8月 (C) 10月 (D) 1月。

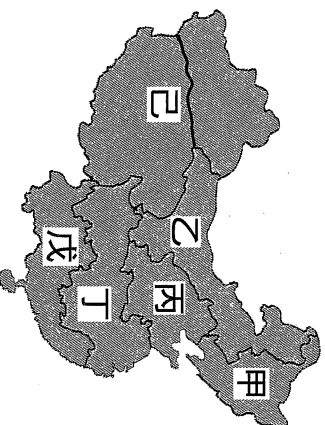
- () 中國南北各地的氣溫差異隨著季節變化而有所不同，當陽光直射附圖中哪一條緯線時，哈爾濱和

廣州間的氣溫差距最大？



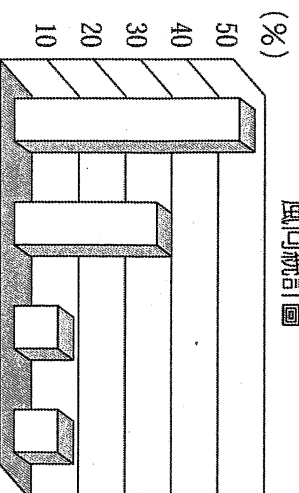
(A) 甲 (B) 乙 (C) 丙 (D) 丁。

- () 附圖為中國疆域的分區圖。請問：圖中何者夏季時的平均氣溫最低，相對較為涼爽？



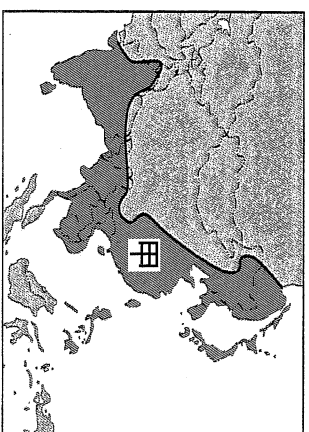
(A) 甲 (B) 乙 (C) 丙 (D) 戊。

- () 居民的日常生活型態容易受到氣候類型的影響。附圖為中國冬季時主要盛行風向的統計圖，這和該地區何種特色關係最大？



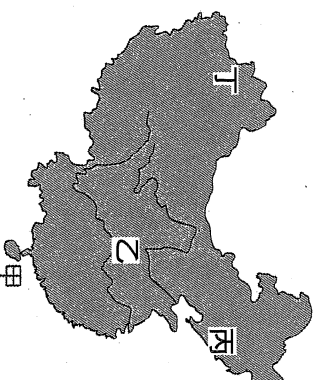
(A) 四合院建築 (B) 高架屋 (C) 房屋坐北朝南 (D) 街道多騎樓。

- () 附圖為亞洲大陸某氣候類型的分布圖。請問：圖中甲區域的氣候類型成因為何？



(A) 地形高聳 (B) 海陸性質差異 (C) 距海遠近 (D) 地勢起伏明顯。

- () 圖中乙處的三峽大壩水利工程帶動了該流域的經濟發展，促成哪一條黃金水道沿岸的工商活動？ (A) 珠江 (B) 長江 (C) 黃河 (D) 松花江。

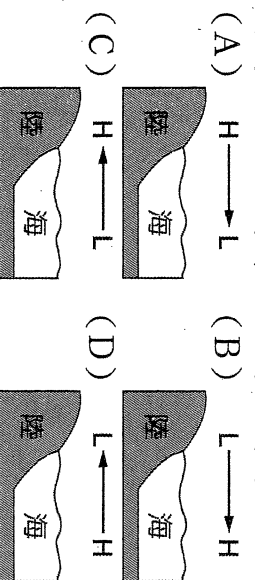


13. ()秦嶺、淮河為中國自然環境的重要分界線，形成南北兩地截然不同的區域特性。附表為中國秦嶺、淮河南北兩地之間自然環境比較，其中何者正確？

	(A)地形	(B)氣溫	(C)雨量	(D)水文
秦嶺以北	平原、盆地地形為主	最冷月均溫 $> 0^{\circ}\text{C}$	年雨量大於 750 毫米	河水冬季易結冰
秦嶺以南	平原、丘陵地形為主	最冷月均溫 $< 0^{\circ}\text{C}$	年雨量少於 750 毫米	河水終年不結冰

14. ()影響一月等溫線最重要因素為何？
 (A)距海遠近 (B)緯度高低
 (C)土壤沃度 (D)植被疏密。

15. ()新聞報導：「中國南部地區因為連續一星期的大量降雨，已造成低窪地區發生水患，影響村落共有 14 個，預計將遷移約上萬人往高處地區避難。災情慘重已引起國際社會的關注。」根據上述報導，該地區當時的氣候現象最可能為下列何者？

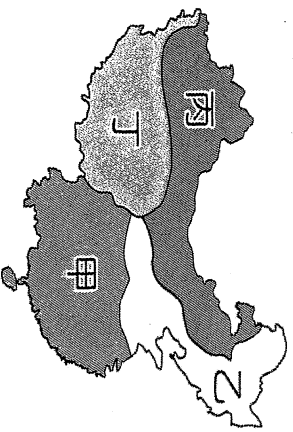


16. ()陳媽媽參加「中國神州八日遊」的旅行團，一行人由珠江三角洲往北出發，經過了華北平原後，抵達東北地區。請問：陳媽媽沿途經歷的氣候類型依序為何？

- (A) 熱帶氣候、溫帶氣候、寒帶氣候
 (B) 熱帶氣候、副熱帶氣候、溫帶氣候
 (C) 副熱帶氣候、溫帶氣候、寒帶氣候
 (D) 溫帶氣候、副熱帶氣候、熱帶氣候。

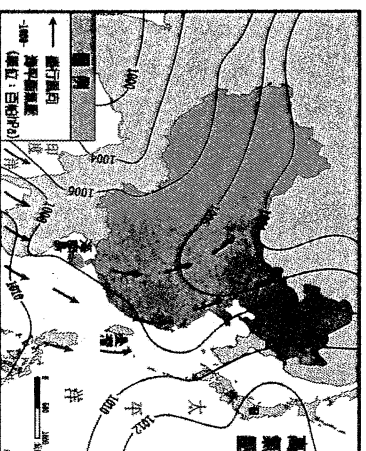
17. ()李先生在暑假帶著孩子前往中國旅遊，導遊在行前會預告知他們必須準備厚外套，以適應當地的氣候環境。請問：李先生所參加的行程最可能為下列何者？ (A) 東北平原賞花之旅 (B) 北京古都五日遊 (C) 青藏高原尋幽之旅 (D) 古絲路風情之旅。

18. ()小名寒假到中國旅行時，在某一地區見到了一群人在結冰的河面上溜冰的奇特景觀。請問：上述景觀最可能出現在附圖中的哪一個地區？



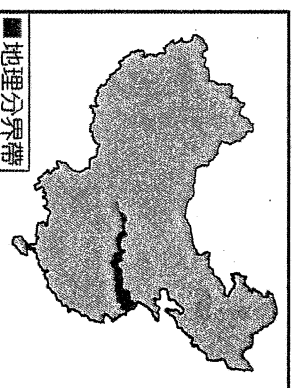
19. ()新疆終年乾燥少雨而形成廣大沙漠景觀，其氣候乾燥的主要成因為下列何者？
 (A) 蒸發旺盛 (B) 高壓籠罩
 (C) 距海遙遠 (D) 緯度偏高。

20. ()附圖為中國氣象局的地面氣象圖，若由圖中資料判斷，則有關該地區的氣候特性中，何者敘述正確？



- (A) 冬季——陸地：高壓區，海洋：低壓區
 (B) 冬季——陸地：低壓區，海洋：高壓區
 (C) 夏季——陸地：高壓區，海洋：低壓區
 (D) 夏季——陸地：低壓區，海洋：高壓區。

21. ()附圖為中國某學者根據自然和人文的綜合數據，繪製的重要地理分界帶。此分界帶大致為下列何種現象的過渡區？

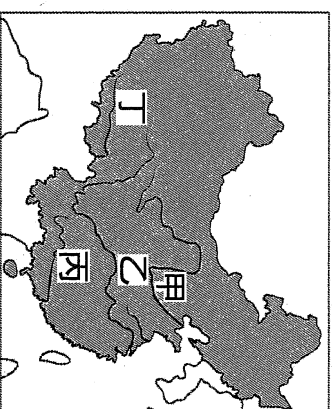


- (A) 產業：農業區與畜牧區
 (B) 水文：內流區與外流區
 (C) 氣候：溫帶季風與副熱帶季風
 (D) 地形：第二級階梯與第三級階梯。

22. ()中國的青藏高原由於地形的阻隔，和外界接觸較少，形成一處世外桃源。下列有關該地區氣候特徵的敘述，何者正確？ (A) 日溫差大、年溫差大
 (B) 日溫差小、年溫差小 (C) 日溫差大、年溫差小 (D) 日溫差小、年溫差大。

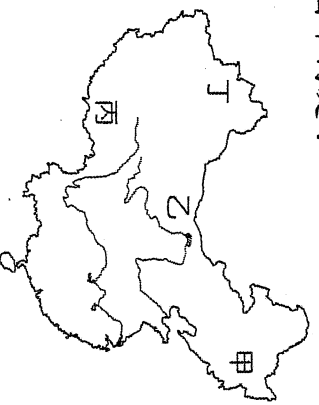
23. ()長江、黃河、珠江等中國境內主要的外流河，其流域多位於下列哪一個氣候區內？ (A) 高地氣候區 (B) 季風氣候區 (C) 沙漠氣候區 (D) 草原氣候區。

24. ()中國境內的氣候類型主要分為三大類。請問：若以其分布位置加以判斷，附圖中哪一條河川流域通過乾燥氣候區，成為當地的主要水來源？

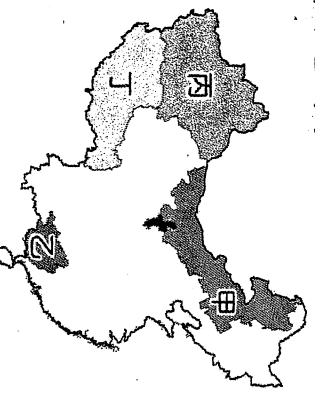


25. ()小王到中國旅行，參加北京七日遊。在旅行的途中發現北方民族相當喜愛吃麵食類食品，這和當地盛產何種作物的關係最大？ (A) 稻米 (B) 小米 (C) 小麥 (D) 玉米。

26. () 中國人口由 55 個民族所組成，生活方式受到各地環境影響而有不同。請問：其中哪一個民族分布地區的環繞境負載力普遍較其他地區高？
 (A) 苗族 (B) 蒙古族 (C) 漢族 (D) 維吾爾族。
27. () 受到地形、氣候等因素的影響，中國的人口分布疏密程度差異相當大。目前該國人口多集中在哪一個氣候區內？ (A) 季風氣候區 (B) 草原氣候區 (C) 乾燥氣候區 (D) 高地氣候區。
28. () 中國少數民族多分布於邊疆地區，其中藏族、維吾爾族等少數民族主要集中於哪一個地區？ (A) 東北地區 (B) 南部地區 (C) 西部地區 (D) 離島地區。
29. () 「○○族」被稱為「馬背民族」，當地有句諺語說：「好馬是馴出來的」，生活中的資源及傳統和馬兒脫不了關係。請問：上文中的「○○族」最可能位於附圖中何處？



- (A) 甲 (B) 乙 (C) 丙 (D) 丁。
30. () 中國境內某少數民族篤信伊斯蘭教，以農耕生活為主。由於當地氣候乾燥，因此多依賴高山融化雪水發展綠洲農業。請問：上文描述的民族位於附圖中哪一個自治區內？



- (A) 甲 (B) 乙 (C) 丙 (D) 丁。
31. () 黑河及騰衝的連線為中國人口分布的重要分界線。附表有關黑河至騰衝之間連線的東西部特色比較，何者正確？
- | 特色 | 東半部地區 | 西半部地區 |
|---------|-------|-------|
| (甲)面積 | 小 | 大 |
| (乙)人口總數 | 少 | 多 |
| (丙)人口密度 | 低 | 高 |
| (丁)地形起伏 | 高地 | 平原 |
- (A) 甲 (B) 乙 (C) 丙 (D) 丁。
32. () 一胎化政策影響中國的人口結構，卻也造成新的問題。下列哪一個年齡層受到該政策的影響，造成性別比失衡的情況最為明顯？(A) 0~14 歲 (B) 15~40 歲 (C) 40~65 歲 (D) 65 歲以上。
33. () 中國以一胎化政策來強迫控制人口數量的變化，但卻也造成其他方面的影響，長久下來對人口結構影響重大，因而促使中國政府在 2015 年結束一胎化

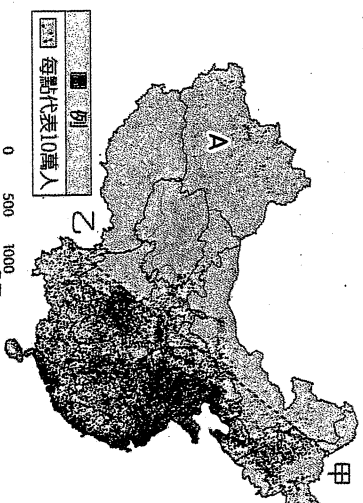
政策。請問：中國一胎化政策造成了下列何種人口問題？(A) 人口分布不均 (B) 城鄉發展失衡 (C) 人口素質降低 (D) 性別比例不均。

34. () 中國為解決人口過多問題，因此施行一胎化政策。然而實施後該國總人口增加數仍高，最主要的原因為何？ (A) 人口數多 (B) 經濟發展 (C) 國外移民 (D) 糧食充足。

35. () 中國近年來受到一胎化政策及經濟發展的影響，出現了下列何種人口變化？ (A) 幼年人口減少、老年人口比例增加 (B) 男性人口減少、女性人口增加 (C) 幼年人口增加、老年人口比例減少 (D) 扶養人口增加、勞動人口減少。
36. () 「南船北馬」是早期中國交通的特色，中國南北交通發展方向不同，主要是受下列哪項因素影響？
 (A) 氣候 (B) 土壤 (C) 產業 (D) 市場。
37. () 2015 年中國的幼年人口性別比是 117，此項資料可以顯示下列哪項事實？ (A) 男性幼年人口較多 (B) 女性幼年人口較多 (C) 男性平均壽命較長 (D) 女性平均壽命較長。
38. () 中國流傳的順口溜：「雖然大權不在手，可誰都得跟他走。他讓往東去，你不敢往西扭。他說要騎馬，爸爸忙趴下。半夜想吃冰淇淋，爺爺提起褲子滿街走。」雖然夾帶著幾分戲謔，卻也道盡了今日中國的人口問題。請問：上述順口溜描述了中國哪一人口問題？ (A) 人口分布不均 (B) 出生率大幅降低 (C) 老年人口增加 (D) 男女性別比漸高。

二、題組

中國的人口總數眾多，而人口問題已成為未來重要的課題。附圖為中國的人口分布狀況，請依圖中資料，回答下列問題：



39. () 附圖顯示出目前中國的重要人口問題之一為何？ (A) 人口過多 (B) 分布不均 (C) 教育低落 (D) 性別不均。
40. () 附圖中甲、乙連線以東的地區，因受到何種因素的影響而成為人口稠密區？
 (A) 地勢較高 (B) 氣溫涼爽
 (C) 礦藏豐富 (D) 氣候溼潤。

彰化縣立明倫國中105學年度第一學期第二次段考
二年級地理科試卷答案

1-5	A	D	A	A	B
6-10	D	D	D	D	C
11-15	B	B	D	B	D
16-20	B	C	C	C	D
21-25	C	C	B	A	C
26-30	C	A	C	B	C
31-35	A	A	D	A	A
36-40	A	A	B	B	D